

جمهورية مصر العربية



امتحانات أبنائنا في الخارج

ملف تقييم الأداء للمستوى الأول لرياض الأطفال

الدور الثاني - 2024

نظام أبنائنا في الخارج

باللغة الفرنسية





إرشادات عامة

المستوى الأول لرياض الأطفال - باللغة الفرنسية

- يتم تحميل ملف التقييم للطالب باللغة الفرنسية للطلاب المتقدمين على (النظام لغات فرنسي) من خلال المنصة الالكترونية لأبنائنا في الخارج بوزارة التربية والتعليم :
- <http://sabroad.emis.gov.eg>
- يتم طباعة الملف ويقوم الطالب بأداء الأنشطة الموجودة .
- يتم رفع الملف بعد الانتهاء منه على المنصة الالكترونية لأبنائنا في الخارج
- يتم تحميل الملف ورفعته بعد استكمالها بداية من يوم وضعه على المنصة ولمدة أسبوعين
- لا يتم ارسال أية ملفات تقييم ورقية ، ويتم التعامل من خلال المنصة الالكترونية فقط
- يتم تحميل الملف ورفعته من خارج جمهورية مصر العربية فقط

اللغة العربية

النشاط الأول : انطق و اكتب الحرف الأول



Blank space for writing the first letter of the word 'سفن' (Safn).

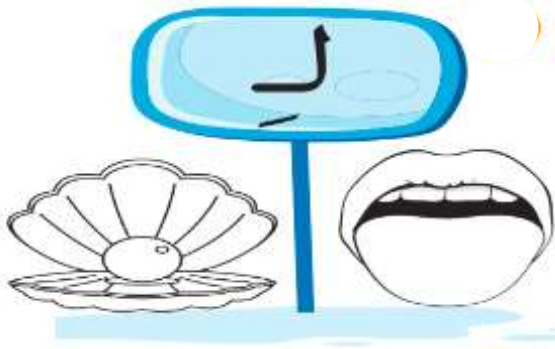
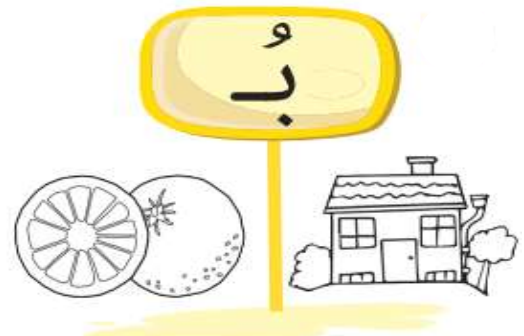
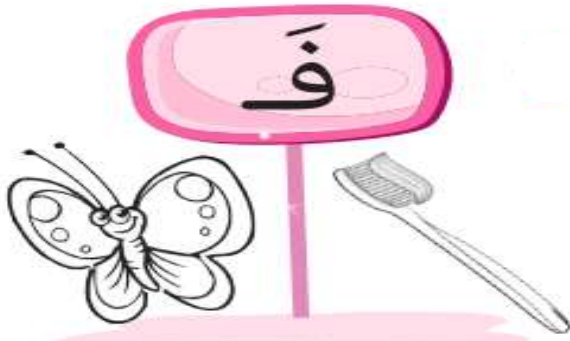


Blank space for writing the first letter of the word 'حصان' (Hawan).




Blank space for writing the first letter of the word 'فراشة' (Frawsha).

النشاط الثاني : اقرأ و لون الصورة المناسبة



النشاط الثالث : تتبع النقط وصل الحرف بالصورة المناسبة



النشاط الرابع : اكتب الحرف الناقص



يَك.....





بَل.....




ف.....

النشاط الخامس : لون وصل





MATHÉMATIQUES

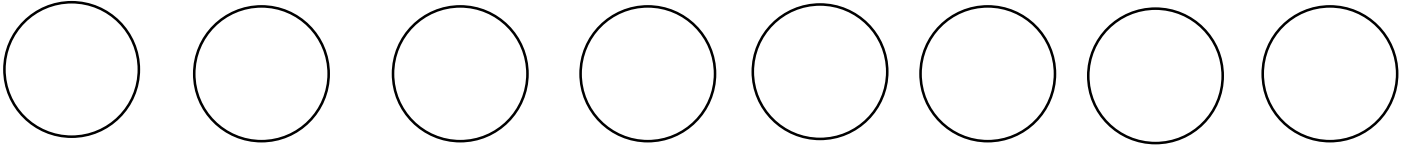
1- Compte et écris




2- Mets (✓) devant le groupe ayant le plus grand nombre d'objets



3- Ecris les nombres de 5 à 12 puis utilise les couleurs pour créer un modèle.




4- Ecris le résultat à l'intérieur du cercle.




=




+




=




+



=



+



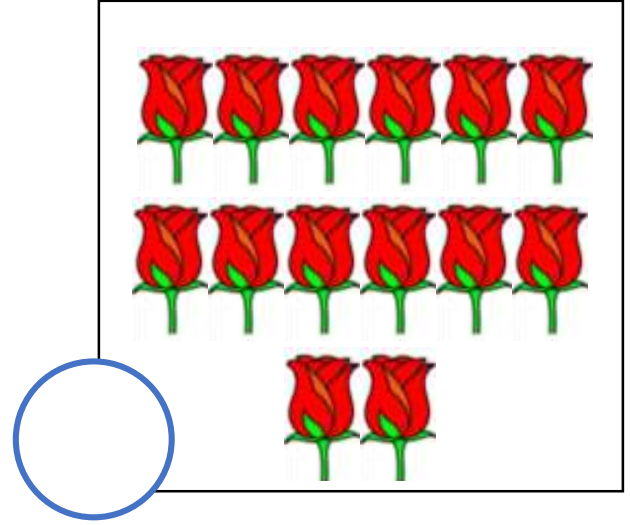
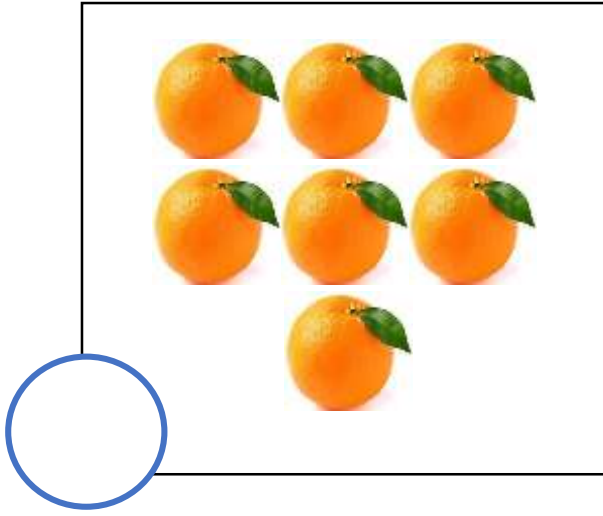
=





+



5- Elimine 4 éléments de chaque groupe et écris le résultat.




6- Trace puis associe chaque forme colorée à sa forme similaire non colorée.



Multi-spécialité

Entoure les êtres vivants



Relis chaque produit de la matière dont il est fabriqué.



Le metal

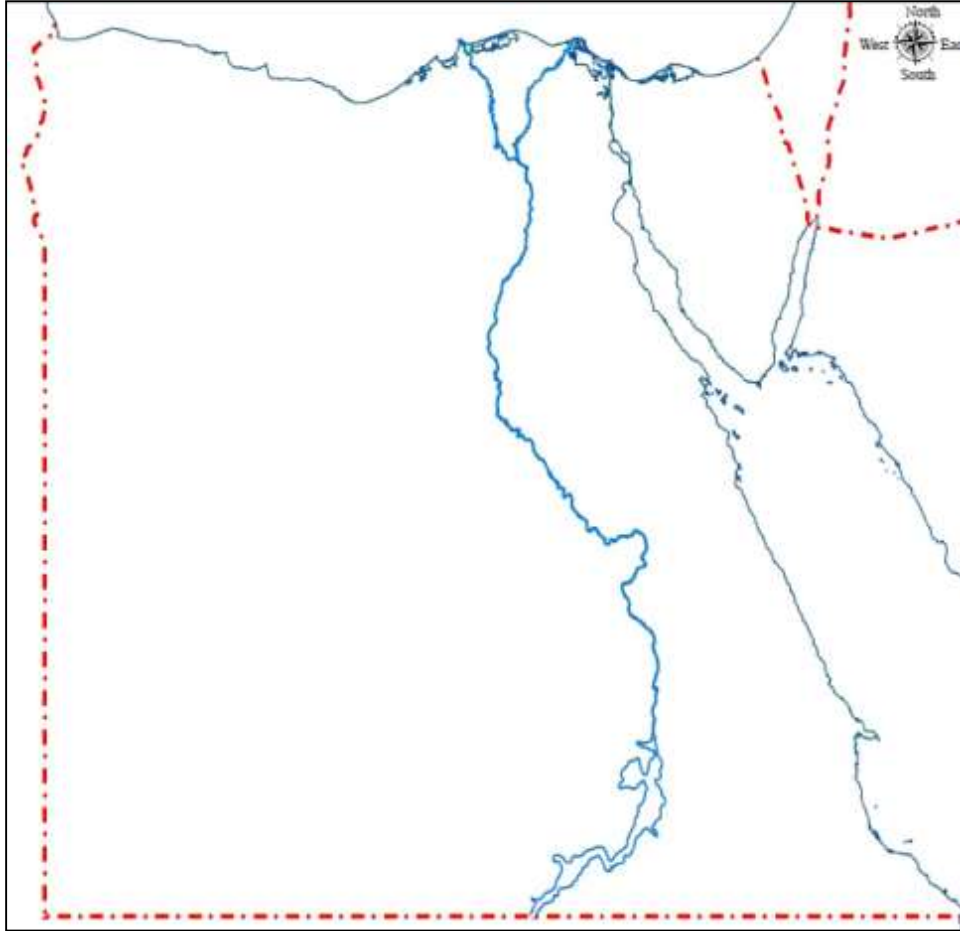


Le papier







Le métal

Colorie en bleu les surfaces de l'eau sur la carte :



Les étapes de la vie des papillons

Mets les images suivantes en ordre en écrivant le chiffre sur la ligne en dessous de chaque image



Relie les images des être -vivants avec le groupe à qui ils appartiennent et mets le signe (X) devant les non vivants.



UNE PLANTE

UN ANIMAL



(انتهى التقييم)