

جمهورية مصر العربية



امتحانات أبنائنا في الخارج

ملف تقييم الأداء

للمستوي الثاني لرياض الأطفال

باللغة الفرنسية

دور ثان

للعام الدراسي 2023 - 2024

اسم الطالب /

رقم الجلوس /

سفارة /

الدولة /





إرشادات عامة

المستوي الثاني لرياض الأطفال - باللغة الفرنسية

- يتم تحميل ملف التقييم للطالب **باللغة الفرنسية** للطلاب المتقدمين على (**النظام لغات فرنسي**) من خلال المنصة الالكترونية لأبنائنا في الخارج بوزارة التربية والتعليم :
- <http://sabroad.emis.gov.eg>
- يتم طباعة الملف ويقوم الطالب بأداء الأنشطة الموجودة .
- يتم رفع الملف بعد الانتهاء منه على المنصة الالكترونية لأبنائنا في الخارج
- يتم تحميل الملف ورفعته بعد استكمالها بداية من يوم وضعه على المنصة **ولمدة أسبوعين**
- لا يتم ارسال أية ملفات تقييم ورقية ، ويتم التعامل من خلال **المنصة الالكترونية فقط**
- يتم تحميل الملف ورفعته من **خارج جمهورية مصر العربية فقط**

اللغة العربية

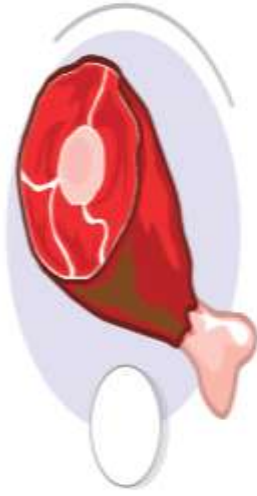
النشاط الأول : صل الصور التي تبدأ بنفس الصوت



النشاط الثاني: أكتب الحرف الأول مع الضبط



النشاط الثالث: ضع علامة (√) أسفل الصورة التي تبدأ بحرف (ل)



النشاط الرابع: تتبع النقط ثم ضع الضبط المناسب

أ



ت



ز



و





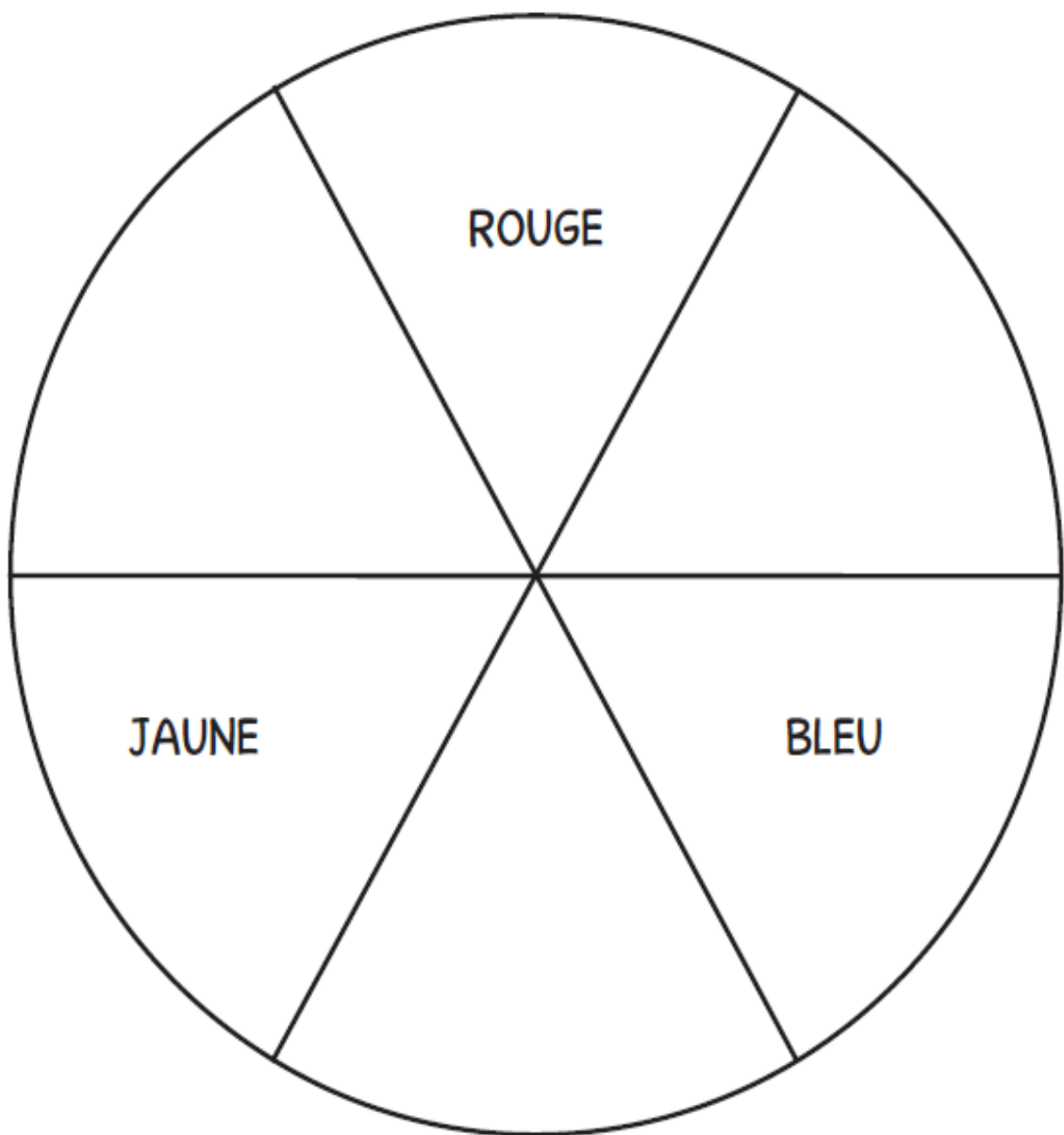






DECOUVERTE

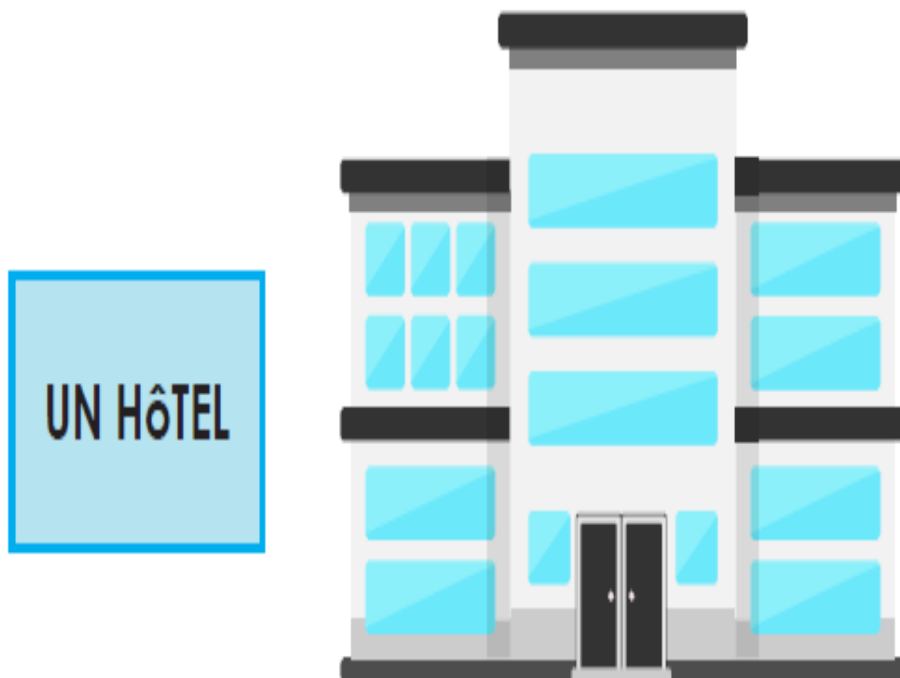
1-utilise uniquement les couleurs primaires pour
créer un mélange de différentes couleurs.



2- Observe les images Entoure les êtres vivant




3- Dessine un cercle pour entourer une fenêtre Dessine un rectangle pour entourer **une porte** Dessine un triangle pour entourer un **panneau d'informations**



4-Où vit chaque animal? Dessine le fond. Entoure d' un cercle chaque partie de l'animal qui l'aide à survivre dans son environnement



Un caméléon vit dans l'herbe.



Un martinet vit dans les arbres.



Un tilapia vit dans les rivières.

MATHÉMATIQUE

1- Calcules et encercles le correct nombre:-



3-4-6




8-4-5




2-3-6


2- Ecris les resultat:-



+




=



-




=



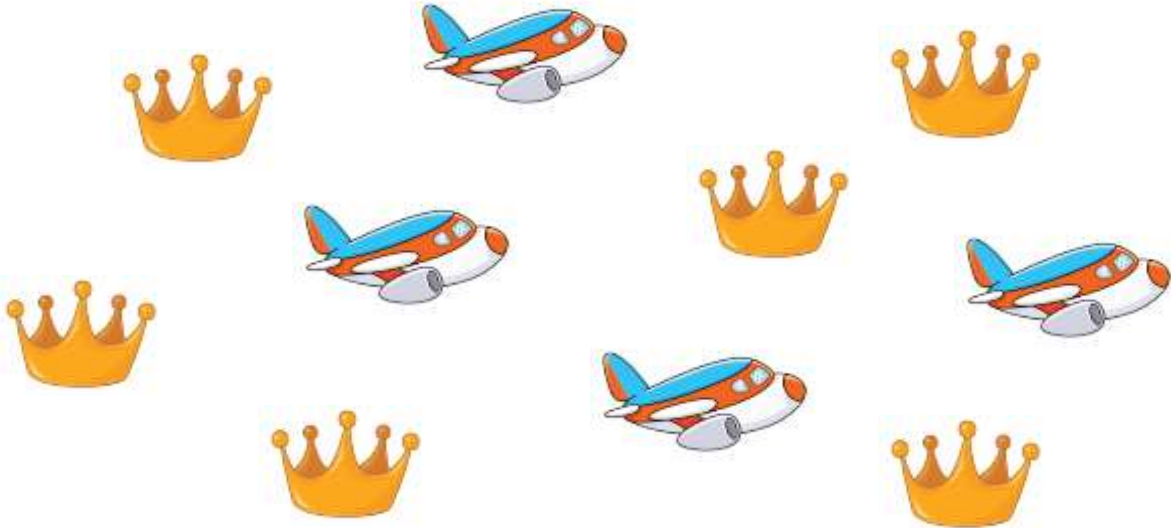
+





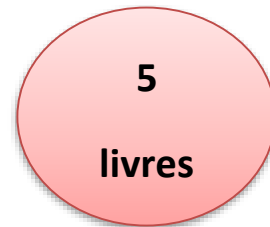
=



3- Encerclez le plus al' asghar groupe:-



4-Relie la valeur de l'argent avec la figure qui lui convient.



6-colorie le triangle avec la couleur rouge , le rectangle avec la couleur verte et le cercle avec la couleur jaune

