

جمهورية مصر العربية



امتحانات أبناءنا في الخارج

ملف تقييم الأداء

للف الثاني الابتدائي

باللغة العربية

الدور الثاني

للعام الدراسي ٢٠٢٣ - ٢٠٢٤

اسم الطالب /

رقم الجلوس /

سفارة /

الدولة /





إرشادات عامة

الصف الثاني الإبتدائي - باللغة العربية

- يتم تحميل ملف التقييم للطالب **باللغة العربية** للطلاب المتقدمين على (**النظام العربي**) من خلال المنصة الالكترونية لابنائنا في الخارج بوزارة التربية والتعليم :
- <http://sabroad.emis.gov.eg>
- يتم طباعة الملف ويقوم الطالب بأداء الأنشطة الموجودة .
- يتم رفع الملف بعد الانتهاء منه على المنصة الالكترونية لابنائنا في الخارج
- يتم تحميل الملف ورفعته بعد استكمالها بداية من يوم وضعه على المنصة **ولمدة أسبوعين**
- لا يتم ارسال أية ملفات تقييم ورقية ، ويتم التعامل من خلال **المنصة الالكترونية فقط**
- يتم تحميل الملف ورفعته من **خارج جمهورية مصر العربية فقط**

اللغة العربية

النشاط الأول :

اختر علامة الترقيم المناسبة (. / ! / ؟) :-

- ١- ما أروع البحر. ()
٢- هل ذهبت للمصيف ()
٣- ابتكرت مركبة تمشي بالهواء ()

النشاط الثاني :

أكمل بحرف جر مناسب :- (عن - إلى - في - على)

- ١- أتعلم المدرسة.
٢- حافظت أدواتي.
٣- قرأت المصباح الكهربائي.
٤- أسرع أبي ليساعدني.

النشاط الثالث :

اقرأ ، واختر من بين القوسين :

- ١- كلمة " الوادي " (مفرد - جمع).
٢- كلمة " الأسرة " (مفرد - جمع).
٣- كلمة " الأنهار " (مفرد - جمع).

النشاط الرابع :

نيل بلادي ما أبهاه
يجري الخير في دلتاه

- ١- أكمل على نفس الوزن " أبهاه "
٢- معنى كلمة " أجمله "
٣- من أين يشرب المصريون ؟

النشاط الخامس :

اختر المناسب مما بين القوسين :-

- ١- ما أجمل بلادي ! أسلوب (نفي - تعجب)
٢- الأهرامات (جمع - مفرد)
٣- البستان. اللام (قمرية - شمسية)
٤- صور كبيرة. (هؤلاء - هذه)
٥- رأيت طائر فوق الشجرة. رأيت (اسم - فعل)

اللغة الانجليزية

1- Look and write the word

Fish / sharpener / shirt / car / shark / T-shirt



1-.....	2-.....	3-.....
4-.....	5-.....	6-.....

التربية الدينية الإسلامية

النشاط الأول :

ضع كل كلمة من الكلمات الآتية في مكانها الخالي كما جاء في سورة البقرة .

(عَلِمَهُ - كَرَسِيَّتُهُ - سِنَّةٌ - الْقِيَوْمُ - نَوْمٌ - الْأَرْضُ - بِأَيْدِيهِمْ - خَلَفَهُمْ - يَشْفَعُ - يَتَوَدَّهُ - الْعَظِيمُ)

قال الله ﷻ ﴿ اللَّهُ لَا إِلَهَ إِلَّا هُوَ الْحَيُّ لَا تَأْخُذُهُ وَلَا لَهُ مَا فِي السَّمَوَاتِ وَمَا
فِي مِنْ ذَا الَّذِي عِنْدَهُ إِلَّا يَعْلَمُ مَا بَيْنَ أَيْدِيهِمْ وَمَا وَلَا يُحِيطُونَ
بِشَيْءٍ مِّنْ إِلَّا بِمَا شَاءَ وَسِعَ السَّمَوَاتِ وَالْأَرْضَ وَلَا حِفْظُهُمَا وَهُوَ
الْعَلِيُّ ﴾

النشاط الثاني :

جاء سيدنا جبريل ﷺ ، وسأل النبي ﷺ عنها ، قائلاً أخبرني عن الإيمان قال أن تؤمن ب.....

رتب أركان الإيمان كما وردت في الحديث الشريف:

- ١

- ٢

- ٣

- ٤

- ٥

- ٦

الإيمان باليوم الآخر

الإيمان بالقدر خيره وشره

بالله ﷻ

الإيمان بالرسول

الإيمان بالكتب السماوية

الإيمان بالملائكة

النشاط الثالث :

ضع علامة (√) أمام العبارة الصحيحة , وعلامة (X) أمام العبارة غير الصحيحة فيما يلي :

- ١- العيد فرصة طيبة لصلة الأرحام وزيارة الأقارب . ()
- ٢- سيدنا إبراهيم عليه السلام من أولي العزم من الرسل . ()
- ٣- شارك سيدنا إسماعيل عليه السلام في بناء الكعبة . ()
- ٤- يطوف الحاج خمس مرات حول الكعبة . ()
- ٥- بر الوالدين من أسباب دخول الجنة . ()
- ٦- تولي عمر بن الخطاب رضي الله عنه الخلافة بعد عثمان بن عفان رضي الله عنه . ()

النشاط الرابع:

صل من العمود (أ) ما يناسبه من العمود (ب)

(ب)

(أ)

صادقون
فرعون وقومه
المعجزات
عبادته
الأنبياء والمرسلين

- ١- الرسل هم بشر أرسلهم الله لدعوة الناس إلي .
- ٢- المسلم يؤمن بأن كل الرسل
- ٣- سيدنا محمد ﷺ هو خاتم
- ٤- أرسل الله ﷻ سيدنا موسى عليه السلام إلي
- ٥- أيد الله ﷻ رسوله بـ

النشاط الخامس :

اختر الإجابة الصحيحة مما بين القوسين :

- (١) أمر الله ﷻ النار بأن تكون علي سيدنا إبراهيم عليه السلام
 - (٢) كان الرسول ﷺ يجتمع بصحابه سرا في
 - (٣) رست سفينة سيدنا نوح عليه السلام علي جبل
 - (٤) نشأ سيدنا إبراهيم عليه السلام في
 - (٥) هو المعجزة التي أيد الله بها رسوله محمد ﷺ
- (ثلجا - بردا وسلاما - ماء)
(الكعبة - دار الأرقم - المسجد النبوي)
(الجودي - عرفات - أحد)
(مصر - الشام - العراق)
(الإنجيل - التوراة - القرآن)

للطلاب المسيحيين فقط

التربية الدينية المسيحية

النشاط الأول: ضع الكلمات الصحيحة في المكان المناسب:

(مياه - نؤمن - راعي - العذراء - الحقيقي - قيامة - ضابط - بمعمودية)

- ١- بالحقيقة بإله واحد، الله الأب، الكل، خالق السماء والأرض.
- ٢- "الرب فلا يعوزني شيء. في مراغ خضر يربطني إلى الراحة يوردني".
- ٣- نعظمك يا أم النور ونمجدك أيتها القديسة والدة الإله.
- ٤- ونعترف واحدة لمغفرة الخطايا. ومنتظر الأموات.

النشاط الثاني: - ضع علامة (√) أمام العبارة الصحيحة وعلامة (×) أمام العبارة غير الصحيحة: -

- ١- طلب إيليا النبي من الأرملة أن تصنع له كعكة. ()
- ٢- أطاع دانيال وأصدقائه قائد الحرس وأكلوا من طعام الملك وشربوا من الخمر. ()
- ٣- قدم المجوس للطفل يسوع هدايا: ذهباً ولباناً و مرّاً. ()
- ٤- قال الله لإبراهيم: خذ ابنك وحيدك إسحق الذى تحبه وقدمه ذبيحة. ()

النشاط الثالث: اختر الإجابة الصحيحة مما بين القوسين:

- ١- القديسة علمت أطفال قرى سويسرا النظافة الجسدية. (اليصابات - سارة - فيرينا)
- ٢- أسس الرب يسوع سر التناول في يوم..... (عيد الميلاد - خميس العهد - عيد القيامة)
- ٣- الملك اجلس مفيوشث إلى المائدة الملكية كل يوم يأكل معه. (سليمان - شاول - داود)
- ٤- طفل ذكى ولطيف يقرأ الكتاب المقدس كل يوم (تيموثاوس - لوط - يهوذا)

النشاط الرابع: صل العبارات من العمود (أ) مع ما يناسبها من شخصيات العمود (ب)

العمود (ب)

يعقوب
موسى
يونان

العمود (أ)

- ١- استجاب الله لصلاته وألقاه الحوت على البر.
- ٢- ضرب البحر بالعصا فانشق البحر.
- ٣- صنع قميصاً ملوناً لابنه يوسف.

النشاط الخامس: أكمل ما يلي:-



عندما حدثت مجاعة في كل البلاد.
كان هو المسئول عن الطعام في كل
أرض مصر.



اطاع الله واستمر بينى الفلك
مع اولاده الثلاثة.

متعدد التخصصات - رياضيات

نشاط ١ :

صل كل مسألة بالنتج الخاص بها:

د $9 + 8$ ج $6 + 6$ ب $4 + 14$ أ $8 - 15$

١٨

٧

١٢

١٧

نشاط ٢ : اختر :

١٧ ١١ ٨ ٤

فردى - زوجى فردى - زوجى فردى - زوجى فردى - زوجى

٥

فردى - زوجى

٢٢

فردى - زوجى

٩

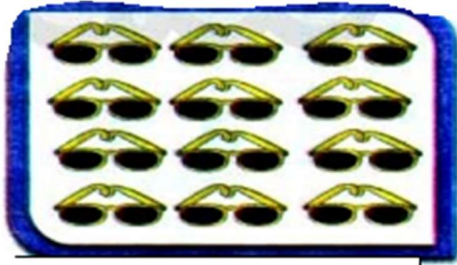
فردى - زوجى

نشاط ٣ :


٣ أوجد الناتج، ثم قارن باستخدام الرموز (> أو < أو =):

$6+4$	$8-10$	ب	$4+3$	$3+3$	أ
$7-8$	$8+7$	د	$3+7$	$4-14$	ج


نشاط ٤ : أكمل ما يأتي :-



..... فى



..... فى



..... فى



..... فى

نشاط ٥ : اكمل الجدول التالى بالأعداد المناسبة :

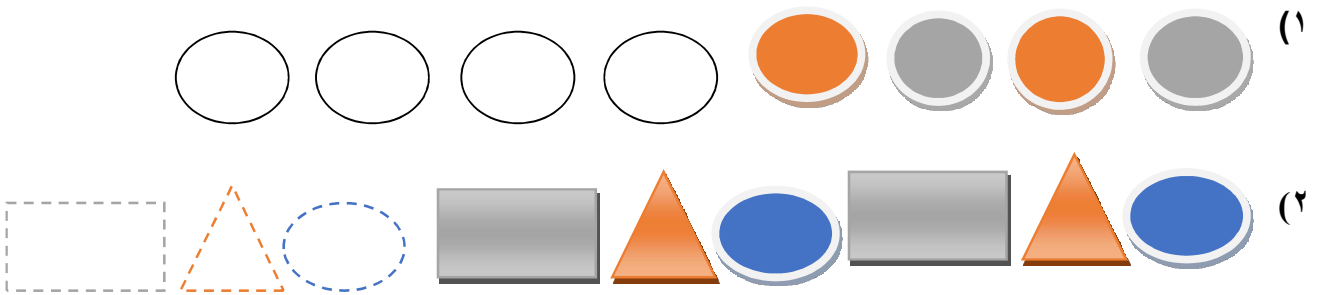
	٦٨			٦٥
		٧٢	٧١	
		٧٧		٧٥
	٨٣		٨١	

نشاط ٦ :

٣ أوجد ناتج جمع أو طرح كلِّ مما يأتي:

و	هـ	د	ج	ب	أ
$\begin{array}{r} ٢٣ \\ + ٣٢ \\ \hline \end{array}$	$\begin{array}{r} ٩٩ \\ - ٤٧ \\ \hline \end{array}$	$\begin{array}{r} ٩٨ \\ - ٢٤ \\ \hline \end{array}$	$\begin{array}{r} ١١ \\ + ٣٨ \\ \hline \end{array}$	$\begin{array}{r} ٢٩ \\ - ١٢ \\ \hline \end{array}$	$\begin{array}{r} ٢٧ \\ + ٣١ \\ \hline \end{array}$

نشاط ٧ : لون الاشكال بنفس النمط :



نشاط ٨ :

٣ صل كل شكل باسمه :



ملف تقييم الأداء باللغة العربية - الصف الثاني الابتدائي - الدور الثاني - ٢٠٢٤

نشاط ٩ :- اوجد ناتج جمع والطرح الاتي باستخدام جدول القيمة المكانية:

(١) $213 + 165 = \dots\dots\dots$

آحاد	عشرات	مئات
—		

=

آحاد	عشرات	مئات
—		

(٢) $456 - 39 = \dots\dots\dots$

آحاد	عشرات	مئات
—		

=

آحاد	عشرات	مئات
—		

نشاط ١٠ : حل المسائل التالية :

— إشتريت منى خضار بمبلغ ٣٢ جنيها ، وفاكهه بمبلغ ٢٠ جنيها . فكم دفعت منى ؟

.....

— فى الفصل ٣٥ بنتا و١٣ ولدا . كم يزيد عدد البنات عن عدد الاولاد ؟

.....

نشاط ١١ : اكمل بما هو مطلوب :



(١) قيمة العدادات الحمراء بالكسور



(٢) قيمة العدادات الحمراء بالكسور



٣ (قيمة العدادات الحمراء بالكسور


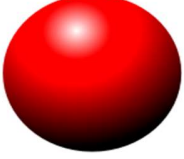



٤ (قيمة العدادات الحمراء بالكسور



٥ (قيمة العدادات الحمراء بالكسور

نشاط ١٢ : اكمل الجدول التالي :-

عدد الرؤوس	عدد الاحرف	عدد الواجهه	الاسم	الشكل
				
				
				
				
				
				

نشاط ١٣ : اكتب الوقت المبين في كل ساعة



..... الساعة



..... الساعة



..... الساعة

متعدد التخصصات - علوم

نشاط (١):

ماذا يوجد في البيئة الطبيعية؟



انظر إلى الصور. اكتب ما تراه في المستطيل المجاور لكل صورة.

صحراء



محيط



نشاط (٢) :

استخدام الكهرباء في المنزل



انظر إلى صورة المنزل، وضع دائرة حول الأماكن التي تُستخدم فيها الكهرباء.



متعدد التخصصات - دراسات اجتماعية

النشاط الأول : خريطة مصر



شاهد خريطة مصر الطبيعية التي أمامك ثم أجب

- ١- ما هي أكبر البيئات المصرية
- ٢- أكبر البيئات المصرية باللون
- ٣- البحار باللون

النشاط الثاني : الحضارة المصرية القديمة :-

أمامك صورة للكتابة المصرية القديمة أجب عن التالي:

ما اسم هذه الكتابة التي استخدمها المصري القديم؟

.....

قم بكتابة حروف اسمك بالكتابة المصرية القديمة ؟

.....

b ب D58	w و G43	3 ع D36	i ا M17	a 2 ع G1
r ر D21	n ن N36	m م G17	z ز I9	f ف Q3
S ص S29	s س O34	kh خ Aa1	H ح V28	h هـ O4
t ت X1	g ج W11	k ك V31	q ق N29	sh ش N37A
y ي N23	th ث Z2A	D ض I10	d د D46	L ل V13

النشاط الثالث : كوكب الارض



أمامك صورة لأحد كواكب المجموعة الشمسية
ما اسم الكوكب الذي نعيش عليه؟

يدور هذا الكوكب حول كل ٣٦٥ يوم