

جمهورية مصر العربية



امتحانات أبناءنا في الخارج

**ملف تقييم الأداء**

**للف الثاني الابتدائي**

**باللغة الفرنسية**

**الدور الثاني**

**للعام الدراسي ٢٠٢٣ - ٢٠٢٤**

اسم الطالب / .....

رقم الجلوس / .....

سفارة / .....

الدولة / .....





## إرشادات عامة

### الصف الثاني الإبتدائي - باللغة الفرنسية

- يتم تحميل ملف التقييم للطالب باللغة الفرنسية للطلاب المتقدمين على ( نظام اللغات - فرنسي ) من خلال المنصة الالكترونية لابنائنا في الخارج بوزارة التربية والتعليم :
- <http://sabroad.emis.gov.eg>
- يتم طباعة الملف ويقوم الطالب بأداء الأنشطة الموجودة .
- يتم رفع الملف بعد الانتهاء منه على المنصة الالكترونية لأبنائنا في الخارج
- يتم تحميل الملف ورفعته بعد استكمالها بداية من يوم وضعه على المنصة ولمدة أسبوعين
- لا يتم ارسال أية ملفات تقييم ورقية ، ويتم التعامل من خلال المنصة الالكترونية فقط
- يتم تحميل الملف ورفعته من خارج جمهورية مصر العربية فقط

اللغة العربية

النشاط الأول :

اختر علامة الترقيم المناسبة ( . / ! / ؟ ) :-

- ١- ما أروع البحر. ( )  
٢- هل ذهبت للمصيف ( )  
٣- ابتكرت مركبة تمشي بالهواء ( )

النشاط الثاني :

أكمل بحرف جر مناسب :- ( عن - إلى - في - على )

- ١- أتعلم ..... المدرسة.  
٢- حافظت ..... أدواتي.  
٣- قرأت ..... المصباح الكهربائي.  
٤- أسرع ..... أبي ليساعدني.

النشاط الثالث :

اقرأ ، واختر من بين القوسين :

- ١- كلمة " الوادي " ( مفرد - جمع ).  
٢- كلمة " الأسرة " ( مفرد - جمع ).  
٣- كلمة " الأنهار " ( مفرد - جمع ).

النشاط الرابع :

نيل بلادي ما أبهاه  
يجري الخير في دلتاه

- ١- أكمل على نفس الوزن " أبهاه " .....  
٢- معنى كلمة " أجمله " .....  
٣- من أين يشرب المصريون ؟ .....

النشاط الخامس :

اختر المناسب مما بين القوسين :-

- ١- ما أجمل بلادي ! أسلوب ( نفي - تعجب )  
٢- الأهرامات ( جمع - مفرد ).  
٣- البستان. اللام ( قمرية - شمسية )  
٤- ..... صور كبيرة. ( هؤلاء - هذه )  
٥- رأيت طائر فوق الشجرة. رأيت ( اسم - فعل )

اللغة الفرنسية

Exercice 1 :

LES MOYENS DE TRANSPORT:

- Complète les phrases avec la préposition correcte: "à" ou "en" et le moyen de transport qui correspond:

avion train pied vélo train voiture



Maggie voyage  \_\_\_\_\_



Jeanne voyage  \_\_\_\_\_



Léo voyage  \_\_\_\_\_



Luc voyage  \_\_\_\_\_



Alice voyage  \_\_\_\_\_

## ملف تقييم الأداء باللغة الفرنسية - الصف الثاني الابتدائي - الدور الثاني - ٢٠٢٤

### Exercice 2 :

2. Remets la phrase en ordre

Je en avion. France vais en

allons à la Nous campagne train . en

vont ils à mer en la voiture.

### Exercice 3 :

Ecris les moyens de transport avec "en" ou "à" :



### Exercice 4 :

Complète avec le verbe (Aller) et (La préposition+article) qui correspond :

- 1- Je \_\_\_\_\_ magasin.
- 2- Mon père et ma mère \_\_\_\_\_ cinéma.
- 3- Nous \_\_\_\_\_ restaurant.
- 4- Elle \_\_\_\_\_ piscine.
- 5- Vous \_\_\_\_\_ théâtre.
- 6- Le professeur \_\_\_\_\_ cafétéria

التربية الدينية الإسلامية

النشاط الأول :

ضع كل كلمة من الكلمات الآتية في مكانها الخالي كما جاء في سورة البقرة .

(عَلِمَهُ - كَرَسِيَّتُهُ - سِنَّةٌ - الْقِيَوْمُ - نَوْمٌ - الْأَرْضُ - بِأَيْدِيهِمْ - خَلَفَهُمْ - يَشْفَعُ - يَتَوَدَّهُ - الْعَظِيمُ )

قال الله ﷻ ﴿ اللَّهُ لَا إِلَهَ إِلَّا هُوَ الْحَيُّ ..... لَا تَأْخُذُهُ ..... وَلَا ..... لَهُ مَا فِي السَّمَوَاتِ وَمَا

فِي ..... مَنْ ذَا الَّذِي ..... عِنْدَهُ إِلَّا ..... يَعْلَمُ مَا بَيْنَ أَيْدِيهِمْ وَمَا ..... وَلَا يُحِيطُونَ

بِشَيْءٍ مِّنْ ..... إِلَّا بِمَا شَاءَ وَسِعَ ..... السَّمَوَاتِ وَالْأَرْضَ وَلَا ..... حِفْظُهُمَا وَهُوَ

الْعَلِيُّ ..... ﴿٢٥٥﴾

النشاط الثاني :

جاء سيدنا جبريل ﷺ ، وسأل النبي ﷺ عنها ، قائلاً أخبرني عن الإيمان قال أن تؤمن ب.....

رتب أركان الإيمان كما وردت في الحديث الشريف:

- ١

- ٢

- ٣

- ٤

- ٥

- ٦

الإيمان باليوم الآخر

الإيمان بالقدر خيره وشره

بالله ﷻ

الإيمان بالرسول

الإيمان بالكتب السماوية

الإيمان بالملائكة

### النشاط الثالث :

ضع علامة ( √ ) أمام العبارة الصحيحة , وعلامة ( X ) أمام العبارة غير الصحيحة فيما يلي :

- ١- العيد فرصة طيبة لصلة الأرحام وزيارة الأقارب . ( )
- ٢- سيدنا إبراهيم عليه السلام من أولي العزم من الرسل . ( )
- ٣- شارك سيدنا إسماعيل عليه السلام في بناء الكعبة . ( )
- ٤- يطوف الحاج خمس مرات حول الكعبة . ( )
- ٥- بر الوالدين من أسباب دخول الجنة . ( )
- ٦- تولي عمر بن الخطاب رضي الله عنه الخلافة بعد عثمان بن عفان رضي الله عنه . ( )

### النشاط الرابع:

صل من العمود ( أ ) ما يناسبه من العمود ( ب )

( ب )

( أ )

صادقون  
فرعون وقومه  
المعجزات  
عبادته  
الأنبياء والمرسلين

- ١- الرسل هم بشر أرسلهم الله لدعوة الناس إلي .
- ٢- المسلم يؤمن بأن كل الرسل
- ٣- سيدنا محمد صلى الله عليه وسلم هو خاتم
- ٤- أرسل الله صلى الله عليه وسلم سيدنا موسى عليه السلام إلي
- ٥- أيد الله صلى الله عليه وسلم رسله بـ

### النشاط الخامس :

اختر الإجابة الصحيحة مما بين القوسين :

- (١) أمر الله صلى الله عليه وسلم النار بأن تكون ..... علي سيدنا إبراهيم عليه السلام
  - (٢) كان الرسول صلى الله عليه وسلم يجتمع بصحابه سرا في .....
  - (٣) رست سفينة سيدنا نوح عليه السلام علي جبل .....
  - (٤) نشأ سيدنا إبراهيم عليه السلام في .....
  - (٥) ..... هو المعجزة التي أيد الله بها رسوله محمد صلى الله عليه وسلم
- ( ثلجا - بردا وسلاما - ماء )  
( الكعبة - دار الأرقم - المسجد النبوي )  
( الجودي - عرفات - أحد )  
( مصر - الشام - العراق )  
( الإنجيل - التوراة - القرآن )

للطلاب المسيحيين فقط

التربية الدينية المسيحية

النشاط الأول : ضع الكلمات الصحيحة في المكان المناسب :

(مياه - نؤمن - راعي - العذراء - الحقيقي - قيامة - ضابط - بمعمودية)

- ١- بالحقيقة ..... بإله واحد، الله الأب، ..... الكل،خالق السماء والأرض.
- ٢- "الرب ..... فلا يعوزني شيء. في مراغ خضر يربضني إلى ..... الراحة يوردني".
- ٣- نعظمك يا أم النور ..... ونمجدك أيتها ..... القديسة والدة الإله.
- ٤- ونعترف ..... واحدة لمغفرة الخطايا. ومنتظر ..... الأموات.

النشاط الثاني: - ضع علامة (√) أمام العبارة الصحيحة وعلامة (x) أمام العبارة غير الصحيحة :-

- ١- طلب إيليا النبي من الأرملة أن تصنع له كعكة . ( )
- ٢- أطاع دانيال وأصدقائه قائد الحرس وأكلوا من طعام الملك وشربوا من الخمر. ( )
- ٣- قدم المجوس للطفل يسوع هدايا: ذهباً ولباناً و مرًا. ( )
- ٤- قال الله لإبراهيم : خذ ابنك وحيدك إسحق الذى تحبه وقدمه ذبيحة. ( )

النشاط الثالث: اختر الإجابة الصحيحة مما بين القوسين:

- ١- القديسة ..... علمت أطفال قرى سويسرا النظافة الجسدية. ( اليصابات - سارة - فيرينا )
- ٢- أسس الرب يسوع سر التناول في يوم..... . (عيدالميلاد - خميس العهد - عيد القيامة)
- ٣- الملك ..... أجلس مفيوشث إلى المائدة الملكية كل يوم يأكل معه. (سليمان- شاول - داود)
- ٤- طفل ذكى ولطيف يقرأ الكتاب المقدس كل يوم ..... (تيموثاوس - لوط - يهوذا)

النشاط الرابع: صل العبارات من العمود (أ) مع ما يناسبها من شخصيات العمود (ب)

العمود (ب)

يعقوب  
موسى  
يوان

العمود (أ)

- ١- استجاب الله لصلاته وألقاه الحوت على البر.
- ٢- ضرب البحر بالعصا فانشق البحر.
- ٣- صنع قميصاً ملوناً لابنه يوسف.

النشاط الخامس : أكمل ما يلى :-



عندما حدثت مجاعة في كل البلاد.  
كان ..... هو المسئول عن الطعام في كل  
أرض مصر.



اطاع الله واستمر ..... بينى الفلك  
مع اولاده الثلاثة.



متعدد التخصصات - رياضيات بالفرنسية

Activité 1 : Associer chaque problème à son résultat :

a)

$15 - 8$

b)

$14 + 4$

c)

$6 + 6$

d)

$8 + 9$

17

12

7

18

Activité 2 : choisir :

4

8

11

17

paire - impaire

paire - impaire

paire - impaire

paire - impaire

5

22

9

paire - impaire

paire - impaire

paire - impaire

Activité 3 : trouver le résultat et mettre le signe convenable (<, >, =)

a)

$10 - 8$

...

$6 + 4$

b)

$8 - 7$

...

$8 + 7$

c)

$3 + 3$

...

$3 + 4$

d)

$14 - 4$

...

$7 + 3$

Activité 4: Compléter :




..... par .....



..... par .....



..... par .....



..... par .....

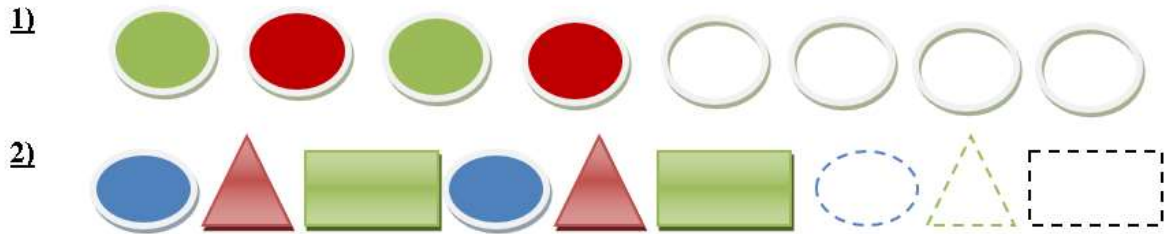
Activité 5 : compléter le tableau avec les nombres convenables :

65			68	
70	71			
		77		
		82	83	

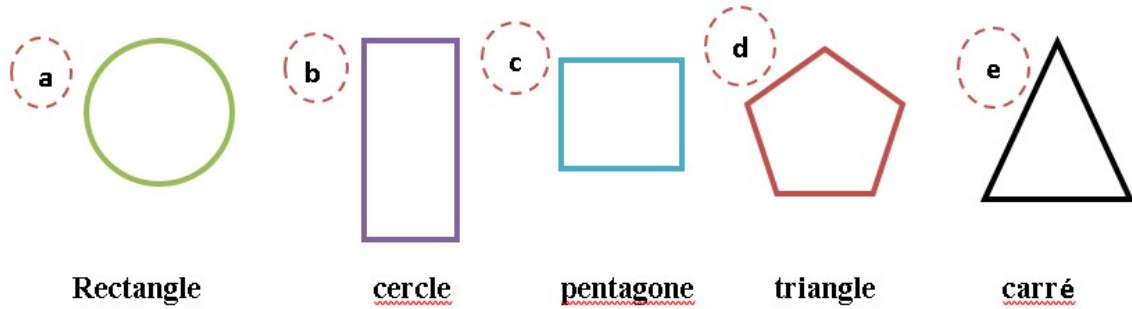
Activité 6 : trouver le résultat des opérations suivantes :

a	27	b	29	c	11	d	98
	<u>+31</u>		<u>-12</u>		<u>+18</u>		<u>-24</u>
	.....		.....		.....		.....

Activité 7: colorier les figures comme les mêmes motifs :



Activité 8 : Associer chaque figure à son nom :



**Activité 9 : Additionner et soustraire à l'aide du tableau des valeurs de position :**

1)  $213 + 156 = \dots\dots$

Centaines	Dizaines	Unités

=

Centaines	Dizaines	Unités

2)  $456 - 29 = \dots\dots$

Centaines	Dizaines	Unités

=

Centaines	Dizaines	Unités

**Activité 10 : résoudre les problèmes suivants :**

1) Mona a acheté des légumes pour 32 L.E. et elle a acheté des fruits pour 20

L.E. Combien de L.E. a-t-elle payé ?  $\dots\dots\dots + \dots\dots\dots = \dots\dots\dots$

2) 35 filles et 13 garçons dans la classe. Trouvez le nombre total d'élèves .

$\dots\dots\dots + \dots\dots\dots = \dots\dots\dots$

**Activité 11 : compléter avec ce qui est voulu :**

1 ) Valeur des compteurs rouges en fractions = .....



2 ) Valeur des compteurs rouges en fractions = .....



3 ) Valeur des compteurs rouges en fractions = .....









4 ) Valeur des compteurs rouges en fractions = .....



5 ) Valeur des compteurs rouges en fractions = .....



Activité 12 : compléter le tableau :

Figure	Nom	Faces	<u>Arrêtes</u>	Sommets
				
				
				
				
				
				

Activité 13 : écrire l'heure :



.....heures

.....heure

.....heures

متعدد التخصصات - علوم بالفرنسية

( Activité 1 )



QUE VOIS-TU ?

Regarde ces images. Écris ce que tu vois dans le cadre à côté de chaque image.



LE DÉSERT



L'Océan

( Activité 2 )



UTILISATION DE L'ÉLECTRICITÉ À LA MAISON

Étudie la maison ci-dessous. Entoure les lieux où l'électricité est utilisée.





متعدد التخصصات - دراسات اجتماعية

النشاط الأول : خريطة مصر



شاهد خريطة مصر الطبيعية التي أمامك ثم أجب

- ١- ما هي أكبر البيئات المصرية .....
- ٢- أكبر البيئات المصرية باللون .....
- ٣- البحار باللون .....

النشاط الثاني : الحضارة المصرية القديمة :-

أمامك صورة للكتابة المصرية القديمة أجب عن التالي:

ما اسم هذه الكتابة التي استخدمها المصري القديم؟

.....

قم بكتابة حروف اسمك بالكتابة المصرية القديمة ؟

.....

b D68	ب G43	w D36	و M17	3 G1	ع ي	i a 2 G1	ا ع	
r D21	n N36	m G17	م Z I9	f Q3	ز ف	S S29	ص h O4	س ح ه
t X1	g W11	k V31	ك q N29	sh N37A	ق ش	y N23	ي th Z2A	ت ث
D I10	d D46	L V13	ض ض					

النشاط الثالث : كوكب الارض



أمامك صورة لأحد كواكب المجموعة الشمسية  
ما اسم الكوكب الذي نعيش عليه؟ .....

يدور هذا الكوكب حول ..... كل ٣٦٥ يوم