

جمهورية مصر العربية



امتحانات أبنائنا في الخارج

ملف تقييم الأداء

للف الثالث الابتدائي

باللغة الإنجليزية

الدور الثاني

للعام الدراسي ٢٠٢٣ - ٢٠٢٤

اسم الطالب /

رقم الجلوس /

سفارة /

الدولة /





إرشادات عامة

الصف الثالث الإبتدائي - باللغة الإنجليزية

- يتم تحميل ملف التقييم للطالب باللغة الإنجليزية للطلاب المتقدمين على (نظام اللغات - انجليزي) من خلال المنصة الالكترونية لابنائنا في الخارج بوزارة التربية والتعليم :
- <http://sabroad.emis.gov.eg>
- يتم طباعة الملف ويقوم الطالب بأداء الأنشطة الموجودة .
- يتم رفع الملف بعد الانتهاء منه على المنصة الالكترونية لأبنائنا في الخارج
- يتم تحميل الملف ورفعته بعد استكمالها بداية من يوم وضعه على المنصة ولمدة أسبوعين
- لا يتم ارسال أية ملفات تقييم ورقية ، ويتم التعامل من خلال المنصة الالكترونية فقط
- يتم تحميل الملف ورفعته من خارج جمهورية مصر العربية فقط .

اللغة العربية

النشاط الأول : اقرأ ثم اختر المناسب :-

" تعلن شركة السيارات عن انتاج سيارة طائرة وهل الحل للزحام والوقوف في الإشارات فقط سارع بالحجز فالعدد محدود"

ما سبق (رسالة - لافتة - دعوة - إعلان)

النشاط الثاني : اقرأ الفقرة الآتية ثم أجب :

بعد أن أصبح خالد جاهزاً لتناول طبق الغذاء ، ووضع فيه قطعة خبز ومكرونه ، وجلس إلى مائدة الطعام ليأكل .

(أ) تخير الصواب مما بين القوسين :

١- الغذاء يقوى الجسم . (اللذيذ - الدسم - المنسق - المتكامل)

٢- مضاد كلمة " جلس " (اتكأ - وقف - قعد - استراح)

(ب) ضع علامة (√) أو علامة (x) :

١- قالت الأم لخالد : اغسل يديك . ()

٢- قال الأب لخالد : تناول سلطة الخضراوات. ()

النشاط الثالث : اقرأ البيتين وأجب :

فيك السما ونجومها تهدينا

يا كوكب الأرض الذي يؤوينا

يثري العقول بيانها يعلينا

وتنوعت فيك اللغات تنوعا

(أ) تخير الصواب مما بين القوسين :

١- معنى "يؤويني" (يعليني - يرشدني - يحميني)

٢- مضاد : " تنوعا " (انفصالا - اختلافا - تأخرا)

(ب) ضع علامة (√) أو علامة (x) :

١- ترشد النجوم المسافر ليلا . ()

٢- الكوكب يتكلم بلغة واحدة. ()

النشاط الرابع : أكمل النص التالي بوضع كلمة من الكلمات الآتية في مكانها الصحيح :

(المرة - فرفضت - آخر - أعجبني)

ذهبت مع أمي لشراء ملابس العيد الجديدة ، وعندما كنا نتجول اخترت ثوبًا جذابًا كثيرًا ، ولكن وجدت أمي به ثوبا صغيرًا شراءه ، ثم جذبني ثوب ولكن هذه كان غير ملائم لحرارة الجو .

النشاط الخامس : اختر المناسب مما بين القوسين :

- ١- يسقط المطر . (اسمية - فعلية)
- ٢- القطار سريع . (اسمية - فعلية)
- ٣- مدرستي جميلة (اسمية - فعلية)
- ٤- يعالج الطبيب المرضى (اسمية - فعلية)

النشاط السادس : حلل الكلمات الآتية إلى مقاطع صوتية :

- ١- عالم / /
- ٢- السبورة / / / /

اللغة الانجليزية

Reorder to make sentences :

1. eats – food – he – good

.....

2. eight – Marwan – hours – for – sleeps – a day

.....

3. feed – I – cat – the

.....

4. feels – she – tired

.....

5. garden – the – play – girls – the – in

.....

6. great – had – we – game – a

.....

7. playing – like – sports – I

.....

اللغة الإنجليزية - مستوى رفيع

1. Read and circle

1. Last month we [**visit / visited**] my grandparents.
2. Today I'm [**riding / ride**] my bike to the park.
3. I usually [**help / helped**] my parents at the weekend.
4. I [**couldn't / can't**] use a computer when I was four.

التربية الدينية الإسلامية

السؤال الأول :

ضع كل كلمة من الكلمات الآتية في مكانها الخالي كما جاء في سورة الشمس .

(الْبَلَدِ - عَيْنَيْنِ - الْإِنْسَانَ - أَهْلَكَتُ - حِلًّا - وَشَفَعَيْنِ - عَلَيْهِ أَحَدٌ - وَكَدًّا)

قال الله ﷻ ﴿ لَا أَقْسِمُ بِهَذَا ١ وَأَنْتَ ٢ بِهَذَا الْبَلَدِ ٣ وَوَالِدٍ وَمَا ٤ لَقَدْ خَلَقْنَا فِي كَبَدٍ ٥ أَيَحْسَبُ أَنْ لَنْ يَقْدِرَ يَقُولُ ٦ مَا لَا لُبًّا لَهُ ٧ أَيَحْسَبُ أَنْ لَمْ يَرَهُ أَحَدٌ ٨ أَلَمْ نَجْعَلْ لَهُ ٩ وَلِسَانًا ١٠ ﴾ البلد: ١ - ٩

السؤال الثاني :

أكمل المحذوف من الحديث الشريف

"..... حيثما كنت ، وأتبع الحسنة وخالق الناس"

السؤال الثالث :-

أختار الإجابة الصحيحة من الدوائر التي أمامك

١- عدد الصلوات في اليوم

٢- من فرائض الوضوء

٣- من سنن الوضوء

٤- من أركان الإسلام

٥- أعظم آية في القرآن الكريم هي

الشهادتان -
الصلوة - الزكاة

مسح
الأذنين

آية
الكرسي

خمس
صلوات

مسح
الرأس

السؤال الرابع :

صل من العمود (أ) ما يناسبه من العمود (ب)

(ب)

(أ)

- | | |
|------------------------|--|
| * سفير الإسلام | ١- اتصف مصعب بن عمير بحن الخلق و..... |
| * رجاحة العقل | ٢- ذهب مصعب بن عمير لمقابلة الرسول ﷺ في دار..... |
| * راية الإسلام | ٣- هاجر مصعب إلي الحبشة وعاش بها حياة..... |
| * الأرقم بن أبي الأرقم | ٤- وقع اختيار الرسول ﷺ علي مصعب ليكون..... |
| * صعبة | ٥- استشهد مصعب بن عمير مدافعا عن..... |

السؤال الخامس :

اختر الإجابة الصحيحة مما بين القوسين ما يعبر عن كل عبارة :

(الشهادتان - الرسول محمد ﷺ - الجزء الثاني من الشهادة - عبادة الله - الجزء الأول من الشهادة)

- (١) هو المستحق للعبادة ، فلا نصلي ولا ندعو إلا إياه
- (٢) طاعته من طاعة الله فيجب أن نطيعه في ما أمرنا به ونبتعد عما نهانا عنه
- (٣) دعت كل الرسائل السماوية إليها
- (٤) أشهد أن محمد رسول الله
- (٥) هما الركن الأول من أركان الإسلام
- (٦) اشهد أن لا إله إلا الله

للطلاب المسيحيين فقط

التربية الدينية المسيحية

السؤال الأول :

ضع الكلمات الصحيحة في المكان المناسب مكان النقط فيما يلي:-

(الأعزاء - بيت - السموات - روعي - يديه)

١. "ولما قام من المجمع دخل سمعان"
٢. " أنزل عن الكراسي ورفع المتضعين"
٣. " فوضع على كل واحد منهم وشفاهم"
٤. " فكونوا أنتم كاملين كما أن أباكم الذي في هو كامل"

السؤال الثاني:

ضع علامة (√) أمام العبارة الصحيحة وعلامة (×) أمام العبارة الخطأ:-

١. خلق الله العالم في سبعة أيام. ()
٢. أقام الرب يسوع ابنة يائرس من الموت. ()
٣. ظهر رئيس الملائكة جبرائيل لزكريا الكاهن وهو في الهيكل. ()
٤. قال الملاك لبولس الرسول إنه لا يرى الموت حتى يعاين المسيح الرب. ()

السؤال الثالث:

اختر الإجابة الصحيحة مما بين القوسين:-

١. تزوج بوعز من
(عرفة - نعمى - راعوث)
٢. أرسل الله خبزاً ولحماً مع الغربان كل يوم صباحاً ومساءً لـ.....النبي.
(هوشع - إيليا - إشعياء)
٣. معنى اسم دبورة.....
(نحلة - المنعم عليها - غزالة)
٤. سار شعب بني إسرائيل في البرية..... حتى وصل جبل سيناء.
(شهرين - ثلاثة أشهر - خمسة أشهر)

السؤال الرابع:

صل من العمود (أ) ما يناسبه من العمود (ب) :-

العمود (أ)	العمود (ب)
بطرس	صلى صلاة فأقام "طابيثا" من الموت
زكا العشار	هو والد القديس مارجرس
أنسطاسيوس	صعد على شجرة الجميز

السؤال الخامس:

أكمل ما يلي:



لا تشهد على قريبك



الصلاة هي عمل

متعدد التخصصات - رياضيات بالانجليزية

Activity 1:

Complete with writing the missing numbers :

(a) $(3 \times 4) \times 5 = 3 \times (\dots \times 5)$

(b) $(\dots \times 6) \times 4 = 5 \times (6 \times 4)$

(c) $(3 \times 3) \times 10 = \dots \times 10 = \dots$

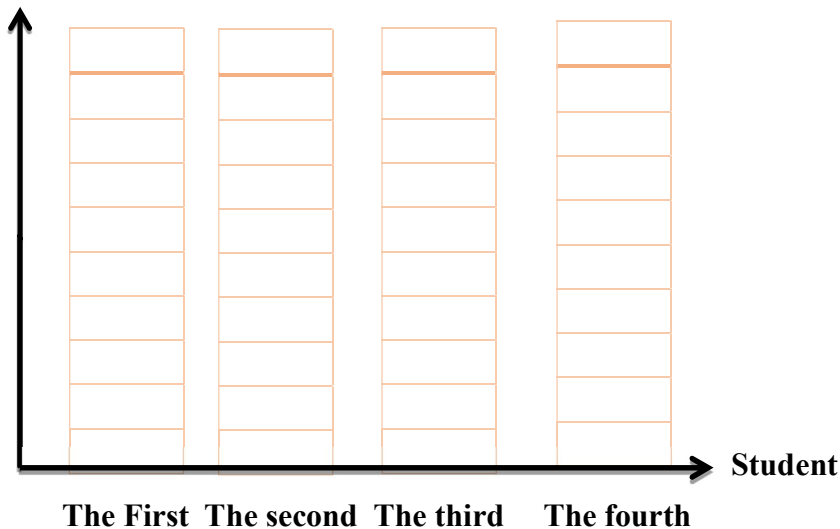
Activity 2:

The following table shows the Number of hours of study for some students. Represent these data by using a bar graph.

(Choose the scale use for making)

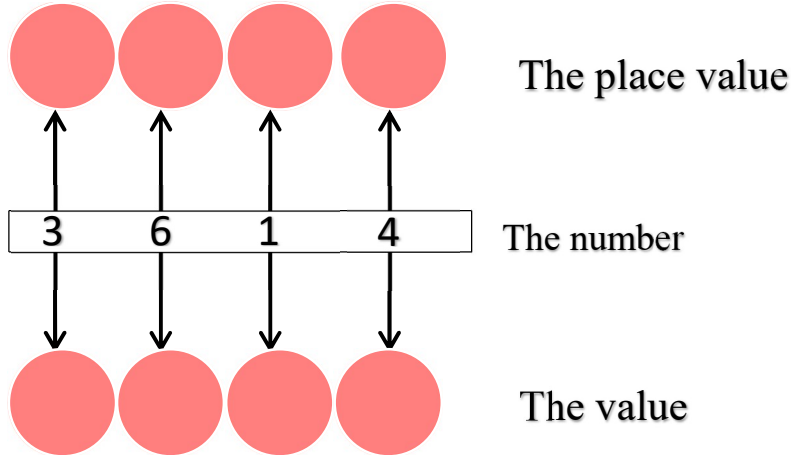
Students	The Number of hours of study
The first	4
The scond	6
The third	3
The fourth	8

Number of hours of study



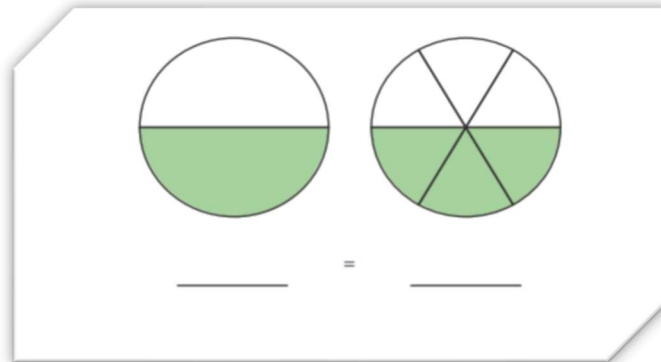
Activity 3:

Complete the following :

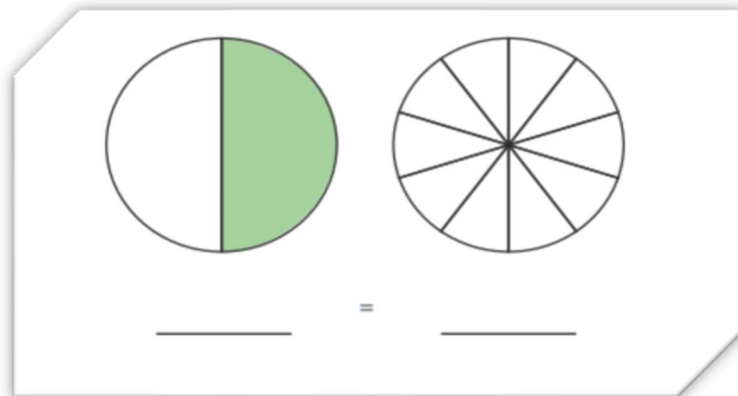


Activity 4 :

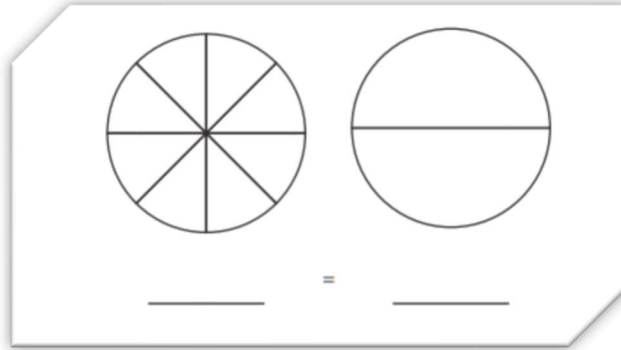
(a) Write the fraction that represents each form:



(b) Color $\frac{1}{2}$ the second circle , then write the fraction below each circle:



(c) Color $\frac{1}{2}$ each circle, then write the fraction:



Activity 5 :

Match what gives the same results as the following:

a

$6 + 6 + 6$

3×11

5×8

10×6

b

10×4

3×6

5×12

$11 + 11 + 11$

Activity 6 :

Order the following fractions from smallest to largest :

$\frac{1}{2}$

$\frac{1}{8}$

$\frac{1}{4}$

$\frac{1}{3}$

$\frac{1}{6}$

$\frac{1}{10}$

$\frac{1}{12}$

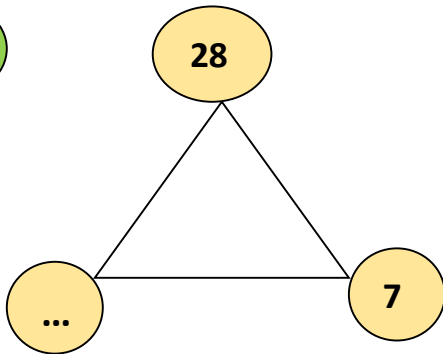
$\frac{1}{5}$



Activity 7 :

Find the unknown number, then write the family of the following facts:

(a)



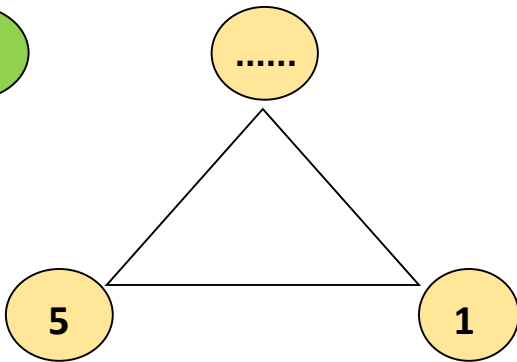
..... × =

..... × =

..... ÷ =

..... ÷ =

(b)



..... × =

..... × =

..... ÷ =

..... ÷ =

Activity 8 :

Solve the following mathematical mysteries :-

1) A number contains 4 thousands, 5 hundreds, 3 tenths and 7 units.

The number is.....

2) The place value of the digit 6 in the number 126345 is

3) Ahmed has A library consisting of 5 shelves, with 6 books on each shelf . what is the total number of books in library ?

.....

4) 748536 =+.....+.....+.....+..... +

Activity 9: Answer the following :

Challenge:

1. Circle the equations below that have the same value as $(9 \times 2) \times 5$.

$9 \times (2 \times 5)$

11×5

9×10

Circle the equations below that have the same value as $4 \times (10 \times 3)$.

4×13

4×30

14×3

$(4 \times 3) \times 10$

2. Kamal brought home 2 boxes filled with bags of apples. Each box had 3 bags with 5 apples in each. How many total apples did Kamal bring home? Write an equation and solve.

Activity10:

Find the area and perimeter of each of the following shapes :

Area: _____

Perimeter: _____

Area: _____

Perimeter: _____

Area: _____

Perimeter: _____

Area: _____

Perimeter: _____

Area: _____

Perimeter: _____

Area: _____

Perimeter: _____

Activity 11:

a) Order the number sets below as directed from least to greatest:

five hundred thousand

532167

631724

5000

the order: , , ,

b) Order the number sets below as directed from least to greatest:

90000 + 8

994375

99999

Nine hundred Thousand

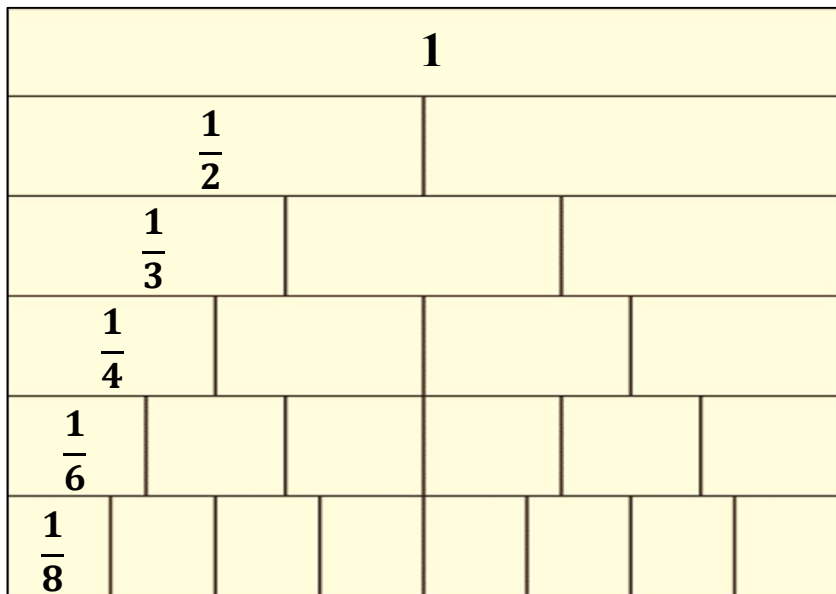
the order: , , ,

Activity 12:

Directions: Solve the problems below. Use your fraction models to help you.

Compare each fraction. Write <, >, or = in the circle.

The model



1. $\frac{1}{2} \bigcirc \frac{1}{6}$

2. $\frac{1}{6} \bigcirc \frac{1}{3}$

3. 1 whole $\bigcirc \frac{1}{4}$

4. $\frac{1}{3} \bigcirc \frac{1}{8}$

5. $\frac{1}{3} \bigcirc \frac{1}{3}$

6. $\frac{1}{8} \bigcirc \frac{1}{6}$

7. $\frac{1}{4} \bigcirc \frac{1}{2}$

8. $\frac{1}{2} \bigcirc \frac{1}{3}$

متعدد التخصصات - العلوم بالانجليزية

Activity 1:



IS THIS THE BEST HABITAT?

Choose one resource on ocean habitats to read. Write about one animal that would survive well in the habitat and another animal that would not survive well. Use evidence from your reading to support your answer.



_____ can live in an ocean habitat.

How does the ocean meet its needs?

- _____
- _____
- _____



_____ cannot live in an ocean habitat.

What needs are not met?

- _____
- _____
- _____

Activity 2:



CAN YOU SEE ME?

Circle the animals camouflaged in each picture. Then write a sentence to explain how camouflage can aid in survival.



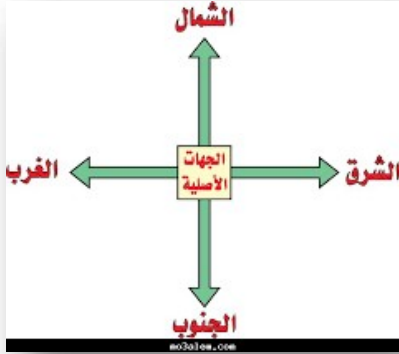








متعدد التخصصات - دراسات اجتماعية



النشاط الأول : الاتجاهات الاصلية

أمامك شكل للجهات الأصلية شاهده جيدا ثم استخدم خريطة مصر للإجابة على الاسئلة التالية

- ١- يقع البحر المتوسط اتجاه
- ٢- يقع البحر الأحمر اتجاه
- ٣- تقع دولة ليبيا اتجاه
- ٤- تقع دولة السودان اتجاه



النشاط الثاني : مظاهر السطح

أمامك صورتين للجبل والهضبة
حدد الفرق بين الصورتين



النشاط الثالث : أمامك صورة لأحد البيئات المصرية من خلال الصورة أجب



١- ما اسم البيئة ؟

٢- حدد أهم الخصائص التي تميزها ؟

.....

٣- هل هذه البيئة طبيعية أم بشرية ؟ ولماذا؟

.....

.....