

جمهورية مصر العربية



امتحانات أبنائنا في الخارج

ملف تقييم الأداء

للف الثالث الابتدائي

باللغة العربية

الدور الثاني

للعام الدراسي ٢٠٢٣ - ٢٠٢٤

اسم الطالب /

رقم الجلوس /

سفارة /

الدولة /





إرشادات عامة

الصف الثالث الإبتدائي - باللغة العربية

- يتم تحميل ملف التقييم للطالب باللغة العربية للطلاب المتقدمين على (النظام العربي) من خلال المنصة الالكترونية لابنائنا في الخارج بوزارة التربية والتعليم :
- <http://sabroad.emis.gov.eg>
- يتم طباعة الملف ويقوم الطالب بأداء الأنشطة الموجودة .
- يتم رفع الملف بعد الانتهاء منه على المنصة الالكترونية لأبنائنا في الخارج
- يتم تحميل الملف ورفعته بعد استكمالها بداية من يوم وضعه على المنصة ولمدة أسبوعين
- لا يتم ارسال أية ملفات تقييم ورقية ، ويتم التعامل من خلال المنصة الالكترونية فقط
- يتم تحميل الملف ورفعته من خارج جمهورية مصر العربية فقط .

اللغة العربية

النشاط الأول : اقرأ ثم اختر المناسب :-

" تعلن شركة السيارات عن انتاج سيارة طائرة وهل الحل للزحام والوقوف في الإشارات فقط سارع بالحجز فالعدد محدود"

ما سبق (رسالة - لافتة - دعوة - إعلان)

النشاط الثاني : اقرأ الفقرة الآتية ثم أجب :

بعد أن أصبح خالد جاهزاً لتناول طبق الغذاء ، ووضع فيه قطعة خبز ومكرونه ، وجلس إلى مائدة الطعام ليأكل .

(أ) تخير الصواب مما بين القوسين :

١- الغذاء يقوى الجسم . (اللذيذ - الدسم - المنسق - المتكامل)

٢- مضاد كلمة " جلس " (اتكأ - وقف - قعد - استراح)

(ب) ضع علامة (√) أو علامة (x) :

١- قالت الأم لخالد : اغسل يديك . ()

٢- قال الأب لخالد : تناول سلطة الخضراوات. ()

النشاط الثالث : اقرأ البيتين وأجب :

فيك السما ونجومها تهدينا

يا كوكب الأرض الذي يؤوينا

يثري العقول بيانها يعلينا

وتنوعت فيك اللغات تنوعا

(أ) تخير الصواب مما بين القوسين :

١- معنى "يؤويني" (يعليني - يرشدني - يحميني)

٢- مضاد : " تنوعا " (انفصالا - اختلافا - تأخرا)

(ب) ضع علامة (√) أو علامة (x) :

١- ترشد النجوم المسافر ليلا . ()

٢- الكوكب يتكلم بلغة واحدة. ()

النشاط الرابع : أكمل النص التالي بوضع كلمة من الكلمات الآتية في مكانها الصحيح :

(المرة - فرفضت - آخر - أعجبني)

ذهبت مع أمي لشراء ملابس العيد الجديدة ، وعندما كنا نتجول اخترت ثوبًا جذابًا كثيرًا ، ولكن وجدت أمي به ثوبا صغيرًا شراءه ، ثم جذبني ثوب ولكن هذه كان غير ملائم لحرارة الجو .

النشاط الخامس : اختر المناسب مما بين القوسين :

- ١- يسقط المطر . (اسمية - فعلية)
- ٢- القطار سريع . (اسمية - فعلية)
- ٣- مدرستي جميلة (اسمية - فعلية)
- ٤- يعالج الطبيب المرضى (اسمية - فعلية)

النشاط السادس : حلل الكلمات الآتية إلى مقاطع صوتية :

- ١- عالم / /
- ٢- السبورة / / / /

اللغة الانجليزية

Reorder to make sentences :

1. eats – food – he – good

.....

2. eight – Marwan – hours – for – sleeps – a day

.....

3. feed – I – cat – the

.....

4. feels – she – tired

.....

5. garden – the – play – girls – the – in

.....

6. great – had – we – game – a

.....

7. playing – like – sports – I

.....

التربية الدينية الإسلامية

السؤال الأول :

ضع كل كلمة من الكلمات الآتية في مكانها الخالي كما جاء في سورة الشمس .

(الْبَلَدِ - عَيْنَيْنِ - الْإِنْسَانَ - أَهْلَكَتُ - حِلًّا - وَشَفَعَيْنِ - عَلَيْهِ أَحَدٌ - وَكَدًّا)

قال الله ﷻ ﴿ لَا أَقْسِمُ بِهَذَا (١) وَأَنْتَ (٢) بِهَذَا الْبَلَدِ (٣) وَوَالِدٍ وَمَا (٤) لَقَدْ خَلَقْنَا (٥) فِي كَبَدٍ (٦) أَيْحَسِبُ أَنْ لَنْ يَقْدِرَ (٧) يَقُولُ (٨) مَا لَا لُبًّا لَهُ (٩) أَيْحَسِبُ أَنْ لَمْ يَرَهُ أَحَدٌ (١٠) أَلَمْ نَجْعَلْ لَهُ (١١) وَلِسَانًا (١٢) الْبَلَدِ : ١ - ٩

السؤال الثاني :

أكمل المحذوف من الحديث الشريف

"..... حيثما كنت ، وأتبع الحسنة وخالق الناس"

السؤال الثالث :-

أختار الإجابة الصحيحة من الدوائر التي أمامك

١- عدد الصلوات في اليوم

٢- من فرائض الوضوء

٣- من سنن الوضوء

٤- من أركان الإسلام

٥- أعظم آية في القرآن الكريم هي

الشهادتان -
الصلوة - الزكاة

مسح
الأذنين

آية
الكرسي

خمس
صلوات

مسح
الرأس

السؤال الرابع :

صل من العمود (أ) ما يناسبه من العمود (ب)

(ب)

(أ)

- | | |
|------------------------|--|
| * سفير الإسلام | ١- اتصف مصعب بن عمير بحن الخلق و..... |
| * رجاحة العقل | ٢- ذهب مصعب بن عمير لمقابلة الرسول ﷺ في دار..... |
| * راية الإسلام | ٣- هاجر مصعب إلي الحبشة وعاش بها حياة..... |
| * الأرقم بن أبي الأرقم | ٤- وقع اختيار الرسول ﷺ علي مصعب ليكون..... |
| * صعبة | ٥- استشهد مصعب بن عمير مدافعا عن..... |

السؤال الخامس :

اختر الإجابة الصحيحة مما بين القوسين ما يعبر عن كل عبارة :

(الشهادتان - الرسول محمد ﷺ - الجزء الثاني من الشهادة - عبادة الله - الجزء الأول من الشهادة)

- (١) هو المستحق للعبادة ، فلا نصلي ولا ندعو إلا إياه
- (٢) طاعته من طاعة الله فيجب أن نطيعه في ما أمرنا به ونبتعد عما نهانا عنه
- (٣) دعت كل الرسائل السماوية إليها
- (٤) أشهد أن محمد رسول الله
- (٥) هما الركن الأول من أركان الإسلام
- (٦) اشهد أن لا إله إلا الله

للطلاب المسيحيين فقط

التربية الدينية المسيحية

السؤال الأول :

ضع الكلمات الصحيحة في المكان المناسب مكان النقط فيما يلي:-

(الأعزاء - بيت - السموات - روعي - يديه)

١. "ولما قام من المجمع دخل سمعان"
٢. " أنزل عن الكراسي ورفع المتضعين"
٣. " فوضع على كل واحد منهم وشفاهم"
٤. " فكونوا أنتم كاملين كما أن أباكم الذي في هو كامل"

السؤال الثاني:

ضع علامة (√) أمام العبارة الصحيحة وعلامة (×) أمام العبارة الخطأ:-

١. خلق الله العالم في سبعة أيام. ()
٢. أقام الرب يسوع ابنة يائرس من الموت. ()
٣. ظهر رئيس الملائكة جبرائيل لزكريا الكاهن وهو في الهيكل. ()
٤. قال الملاك لبولس الرسول إنه لا يرى الموت حتى يعاين المسيح الرب. ()

السؤال الثالث:

اختر الإجابة الصحيحة مما بين القوسين:-

١. تزوج بوعز من
(عرفة - نعمى - راعوث)
٢. أرسل الله خبزاً ولحماً مع الغربان كل يوم صباحاً ومساءً لـ.....النبي.
(هوشع - إيليا - إشعياء)
٣. معنى اسم دبورة.....
(نحلة - المنعم عليها - غزالة)
٤. سار شعب بني إسرائيل في البرية..... حتى وصل جبل سيناء.
(شهرين - ثلاثة أشهر - خمسة أشهر)

السؤال الرابع:

صل من العمود (أ) ما يناسبه من العمود (ب) :-

العمود (أ)	العمود (ب)
بطرس	صلى صلاة فأقام "طابيثا" من الموت
زكا العشار	هو والد القديس مارجرس
أنسطاسيوس	صعد على شجرة الجميز

السؤال الخامس:

أكمل ما يلي:



لا تشهد على قريبك



الصلاة هي عمل

متعدد التخصصات - رياضيات

نشاط ١ أكمل بكتابة الأعداد الناقص :

(أ) $(٥ \times \dots) \times ٣ = ٥ \times (٤ \times ٣)$

(ب) $(٤ \times ٦) \times ٥ = ٤ \times (٦ \times \dots)$

(ج) $\dots = ١٠ \times \dots = ١٠ \times (٣ \times ٣)$

نشاط ٢ : الجدول التالي يوضح عدد ساعات المذاكرة لدى بعض التلاميذ :

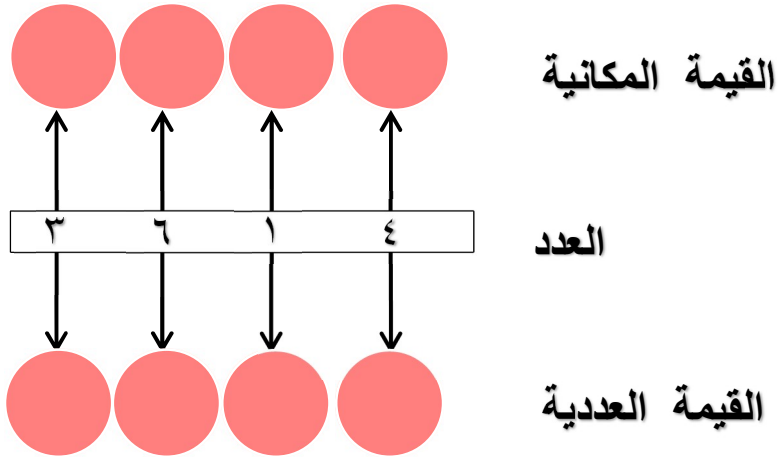
مثل ذلك بالأعمدة (أختار التدرج المناسب)

عدد ساعات المذاكرة	التلميذ
٤	الأول
٦	الثاني
٣	الثالث
٨	الرابع

عدد ساعات المذاكرة

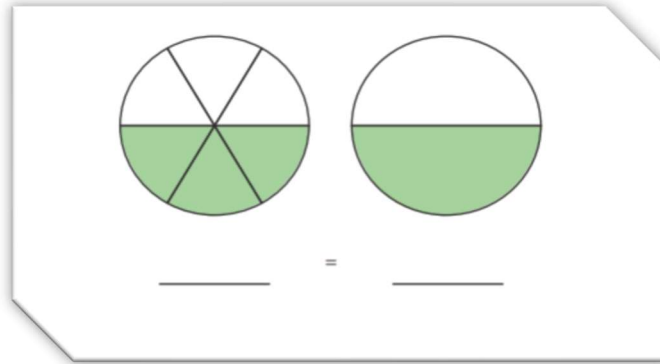


نشاط ٣ : أكمل :

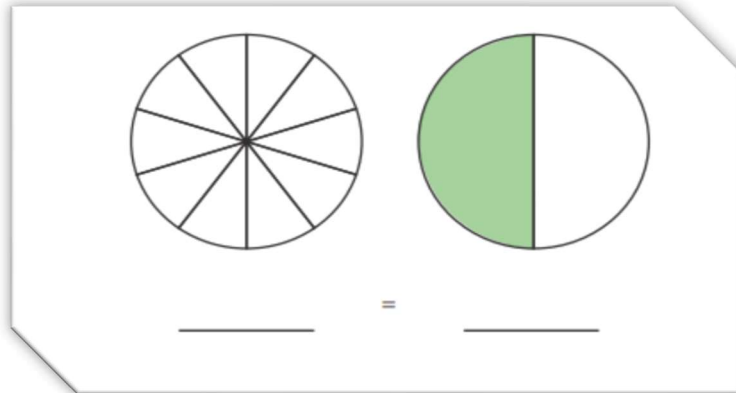


نشاط ٤ :ـ

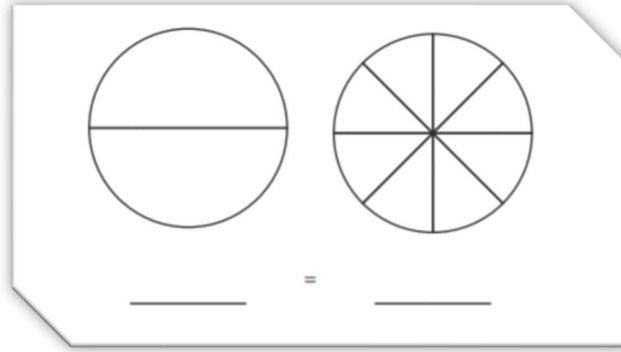
أ) اكتب الكسر الذي يعبر عنه كل نموذج :



ب) لون $\frac{1}{2}$ الدائرة الثانية ثم اكتب الكسر تحت كل دائرة :



ج) لون $\frac{1}{2}$ كل دائرة ثم اكتب الكسر :



نشاط ٥ :- صل بما يعطى نواتج متساوية فيما يلي :

$$6 \times 10$$

$$8 \times 5$$

$$11 \times 3$$

$$6 + 6 + 6$$

أ

$$11 + 11 + 11$$

$$12 \times 5$$

$$6 \times 3$$

$$4 \times 10$$

ب

نشاط ٦ :- رتب الكسور التالية من الاصغر الى الاكبر :

$$\frac{1}{5}$$

$$\frac{1}{12}$$

$$\frac{1}{10}$$

$$\frac{1}{6}$$

$$\frac{1}{3}$$

$$\frac{1}{4}$$

$$\frac{1}{8}$$

$$\frac{1}{2}$$



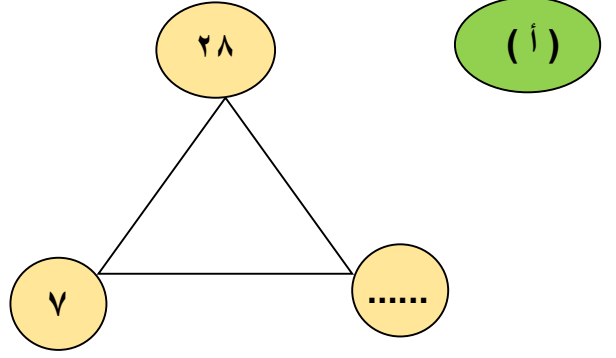
نشاط ٧ :- أوجد العدد المجهول ، ثم أكتب مجموعات عائلة الحقائق التالية :

..... = ×

..... = ×

..... = ÷

..... = ÷

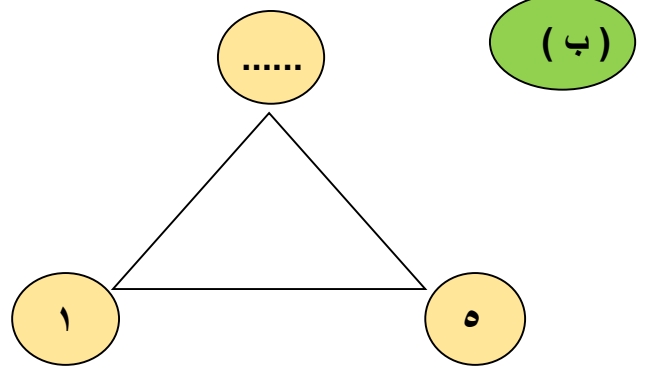


..... = ×

..... = ×

..... = ÷

..... = ÷



نشاط ٨ : حل الالغار الرياضية التالية :-

(١) عدد يحتوى على ٤ آلاف + ٥ مئات + ٣ عشرات + ٧ آحاد

العدد هو.....

(٢) القيمة المكانية للرقم ٦ فى العدد ١٢٦٣٤٥ هى

(٣) لدى أحمد مكتبة مكونه من ٥ أرفف وبكل رف ٦ كتب . فما العدد الكلى للكتب بالمكتبة ؟

.....

..... + + + + + = ٧٤٨٥٣٦ (٤)

نشاط ٩ : اجب عن الاسئلة التالية :-

ع دائرة حول المسائل التالية التي لها قيمة مساوية لقيمة المسألة $0 \times (٢ \times ٩)$

$$١٠ \times ٩$$

$$0 \times 11$$

$$(0 \times ٢) \times ٩$$

ضع دائرة حول المسائل التالية التي لها قيمة مساوية لقيمة المسألة $(٣ \times ١٠) \times ٤$

$$١٠ \times (٣ \times ٤)$$

$$٣ \times ١٤$$

$$٣٠ \times ٤$$

$$١٣ \times ٤$$

٢- أحضر كمال صندوقين مملوئين بأكياس التفاح إلى المنزل. يحتوي كل صندوق على ٣ أكياس، وفي كل كيس 0 تفاحات. فما إجمالي عدد التفاحات التي أحضرها كمال إلى المنزل؟ اكتب مسألة وحلها.

نشاط ١٠ : اوجد محيط ومساحة كل شكل من الاشكال التالية :

المساحة: _____
المحيط: _____

المساحة: _____
المحيط: _____

المساحة: _____
المحيط: _____

المساحة: _____
المحيط: _____

المساحة: _____
المحيط: _____

المساحة: _____
المحيط: _____

نشاط ١١ - (أ) رتب الاعداد التالية ترتيبا تصاعديا :

٥٠٠٠	٦٣١٧٢٤	٥٣٢١٦٧	خمسمائة ألف
------	--------	--------	-------------

الترتيب هو ، ، ،

(ب) رتب الاعداد التالية ترتيبا تنازليا :

تسعمائة ألف	٩٩٩٩٩	٩٩٤٣٧٥	٨ + ٩٠٠٠٠
-------------	-------	--------	-----------

الترتيب هو ، ، ،

نشاط ١٢ : باستخدام نموذج الكسور التالي قارن بين كل كسرين بوضع علامة (< او > او =) :

نماذج الكسور

١							
				$\frac{1}{2}$			
						$\frac{1}{3}$	
						$\frac{1}{4}$	
						$\frac{1}{6}$	
							$\frac{1}{8}$

(١) $\frac{1}{6} \bigcirc \frac{1}{2}$

(٢) $\frac{1}{3} \bigcirc \frac{1}{6}$

(٣) $\frac{1}{4} \bigcirc$ اصح

(٤) $\frac{1}{8} \bigcirc \frac{1}{3}$

(٥) $\frac{1}{3} \bigcirc \frac{1}{3}$


(٦) $\frac{1}{6} \bigcirc \frac{1}{8}$

(٧) $\frac{1}{2} \bigcirc \frac{1}{4}$


(٨) $\frac{1}{3} \bigcirc \frac{1}{2}$

متعدد التخصصات - العلوم

نشاط (١) :

ملاءمة البيئات الطبيعية 


اختر مصدرًا يتضمن معلومات عن بيئة المحيطات للقرائة عنها. اكتب عن حيوان تناسبه بيئة المحيطات وأخر لا يستطيع العيش فيها. استعن بديل من القراوة لدعم إجابتك.



يمكن أن يعيش في المحيطات. _____

إلى أي مدى يلبي المحيط احتياجاته؟

- _____ •
- _____ •
- _____ •



لا يمكن أن يعيش في المحيطات. _____

ما الاحتياجات غير المتوفرة؟


- _____ •
- _____ •
- _____ •

نشاط (٢) :

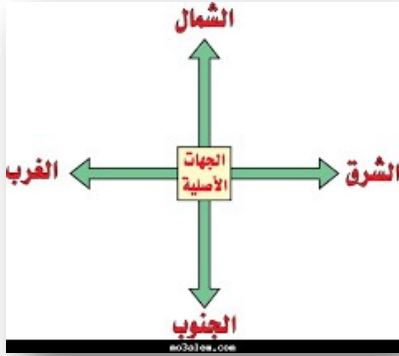
هل ترائي؟



ضع دائرة حول الحيوانات التي تتخفى في كل صورة، ثم اشرح في جملة كيف ساعدتها التخفي في البقاء على قيد الحياة.



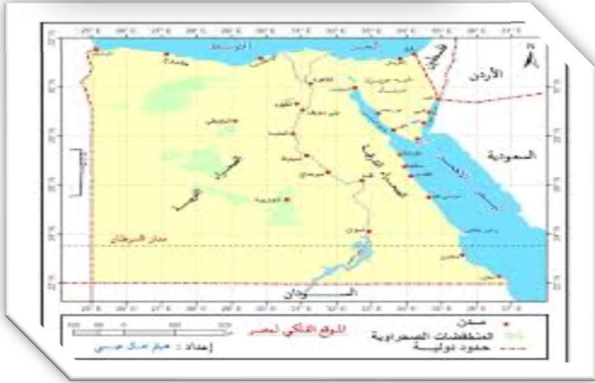
متعدد التخصصات - دراسات اجتماعية



النشاط الأول : الاتجاهات الاصلية

أمامك شكل للجهات الأصلية شاهده جيدا ثم استخدم خريطة مصر للإجابة على الاسئلة التالية

- ١- يقع البحر المتوسط اتجاه
- ٢- يقع البحر الأحمر اتجاه
- ٣- تقع دولة ليبيا اتجاه
- ٤- تقع دولة السودان اتجاه



النشاط الثاني : مظاهر السطح

أمامك صورتين للجبل والهضبة
حدد الفرق بين الصورتين



النشاط الثالث : أمامك صورة لأحد البيئات المصرية من خلال الصورة أجب



١- ما اسم البيئة؟

٢- حدد أهم الخصائص التي تميزها؟

.....

٣- هل هذه البيئة طبيعية أم بشرية؟ ولماذا؟

.....

.....