


اسم الطالب:	رقم الجلوس:
 <p>منصة الاختبارات الالكترونية لأبنائنا في الخارج ٢٠٢٥</p>	<p>امتحان مادة : تكنولوجيا المعلومات والاتصالات بالانجليزية للفصل الخامس الابتدائي الفصل الدراسي الثاني – ٢٠٢٥</p>

1) From your rights as a digital citizen -----

a	protection from piracy
b	infringement in your classmates
c	not publishing the right news
d	using unreliable sources

2) The Websites are divided into ----- sites


a	news sites and commercial
b	shopping sites and news
c	commercial or non-commercial
d	E-Learning and shopping

3) The Library of Alexandria through the internet is -----

a	reliable and credible
b	its content not credible
c	include wrong spelling
d	incredible

4) The ----- allows you to download programs like Microsoft office

a	internet
b	local area network
c	Bluetooth
d	internet of things

اسم الطالب:	رقم الجلوس:
 <p>منصة الاختبارات الالكترونية لأبنائنا في الخارج ٢٠٢٥</p>	<p>امتحان مادة : تكنولوجيا المعلومات والاتصالات بالانجليزية للفصل الخامس الابتدائي الفصل الدراسي الثاني – ٢٠٢٥</p>

5) To make addition equation in the cell use the ----- sign

a	*
b	-
c	+
d	/

6) ----- is a chart that shows a sequence of content that forms a plan or outline of your presentation


a	Storyboard
b	Digital Footprint
c	Emoji
d	Large letters

7) It is preferable that the audio used in PowerPoint be -----

a	too long
b	distracting
c	not related to the presentation
d	short

8) The file written by HTML is display by ----- program

a	browser
b	PowerPoint
c	excel
d	word

اسم الطالب:	رقم الجلوس:
 <p>منصة الاختبارات الالكترونية لأبنائنا في الخارج ٢٠٢٥</p>	<p>امتحان مادة : تكنولوجيا المعلومات والاتصالات بالانجليزية للفصل الخامس الابتدائي الفصل الدراسي الثاني – ٢٠٢٥</p>

9) You can show the data in excel program in the form of -----

a	audio
b	video
c	graph
d	text only

10) You can add ----- in excel program

a	Text only
b	Numbers only
c	Text , numbers and images
d	image only

★(((انتهت الأسئلة)))★