


اسم الطالب :	رقم الجلوس :
 منصة الاختبارات الالكترونية لأبنائنا في الخارج ٢٠٢٥	امتحان مادة : متعدد التخصصات (اكتشف) بالفرنسية للصف الثالث الابتدائي الدور الثاني - ٢٠٢٥

1- Parmi les habitudes malsaines

a	manger des fruits et des légumes
b	boire de l'eau tout au long de la journée
c	manger des bonbons à la place du déjeuner
d	dormir sept heures par nuit

2- Le vélo est très utile pour


a	les trajets courts
b	transporter des marchandises lourdes
c	transporter de marchandises à travers les océans
d	voyager sur de très longues distances

3- Le plus gros organe de notre corps qui pèse environ 4 kg est

a	le cerveau
b	la peau
c	l'estomac
d	le cœur

4- Louxor a un climat

a	désertique
b	tropical
c	saisonnier
d	équatorial

اسم الطالب :	رقم الجلوس :
 منصة الاختبارات الالكترونية لأبنائنا في الخارج ٢٠٢٥	امتحان مادة : متعدد التخصصات (اكتشاف) بالفرنسية للصف الثالث الابتدائي الدور الثاني - ٢٠٢٥

5- Le bec qui recueille le plus de nourriture est


a	la cuillère
b	la pince
c	la pince à linge
d	le ciseau

6- Tout ce qui suit est parmi les moyens d'adaptation des animaux aux climats froids, sauf

a	un animal qui frissonne pour garder ses muscles au chaud
b	un animal qui bat avec ses plumes pour retenir l'air chaud
c	les animaux qui ont une fourrure épaisse
d	les animaux qui ont de grandes oreilles

7- Le papyrus d'Edwin Smith est l'un des papyrus les plus célèbres au monde car il contient des descriptions de

a	pratiques chirurgicales et médicales
b	un document gouvernemental
c	livres
d	fruits et légumes

اسم الطالب :	رقم الجلوس :
 منصة الاختبارات الالكترونية لأبنائنا في الخارج ٢٠٢٥	امتحان مادة : متعدد التخصصات (اكتشاف) بالفرنسية للصف الثالث الابتدائي الدور الثاني - ٢٠٢٥

8- Le Musée National d'Alexandrie est rempli de tout ce qui suit sauf

a	de grandes statues des rois égyptiens
b	d'une salle pleine de bijoux
c	des canopes en argile
d	d'une collection d'aimants

9- L'Hôpital Magdi Yacoub a été inauguré au centre pour le cœur en 2009 .

a	du Caire
b	d'Assouan
c	d'Alexandrie
d	du Gizeh

10 - La statue de Néfertiti représente l'habileté des Égyptiens dans l'art de

a	la peinture
b	la photographie
c	la momification
d	la sculpture

((انتهت الاسئلة))