

اسم الطالب:

رقم الجلوس:

امتحان مادة : الرياضيات  
للفصل الخامس الابتدائي ( دمج )  
الفصل الدراسي الثاني – 2026



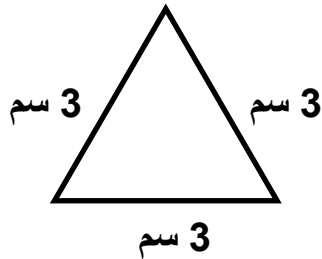
منصة الاختبارات  
لأبنائنا في الخارج

(1) (م.م.أ) لمقامي الكسرين  $\frac{2}{3}$  ،  $\frac{1}{2}$  هو .....

٢	4
ب	9
ح	6
د	5

(2) الكسر غير الفعلي  $\frac{7}{3}$  يكافئ العدد الكسري .....

٢	$2\frac{1}{5}$
ب	$1\frac{1}{2}$
ح	$2\frac{2}{3}$
د	$2\frac{1}{3}$



(3) نوع المثلث المقابل مثلث .....

٢	منفرج الزاوية
ب	متساوي الأضلاع
ح	قائم الزاوية
د	متساوي الساقين

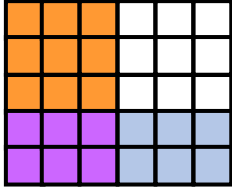
اسم الطالب:

رقم الجلوس:

امتحان مادة : الرياضيات  
للفصل الخامس الابتدائي ( دمج )  
الفصل الدراسي الثاني - 2026



منصة الاختبارات  
لأبنائنا في الخارج



4) ناتج الضرب في النموذج المقابل هو: .....  $\frac{3}{6} \times \frac{2}{5} =$

$\frac{6}{15}$	أ
$\frac{3}{30}$	ب
$\frac{5}{11}$	ج
$\frac{1}{5}$	د

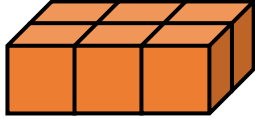
5) مستطيل أبعاده هي 3 سم ، 1 سم ، فإن مساحته = ..... سم<sup>2</sup>

1	أ
2	ب
3	ج
4	د

اسم الطالب:

رقم الجلوس:

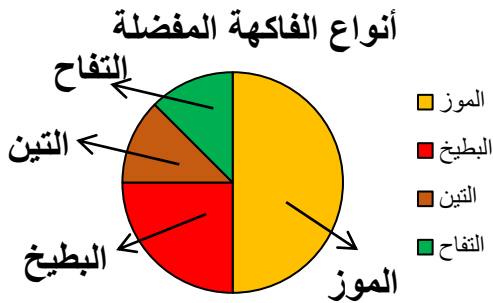
امتحان مادة : الرياضيات  
للفصل الخامس الابتدائي ( دمج )  
الفصل الدراسي الثاني – 2026



(6) عدد المكعبات في متوازي المستطيلات المقابل = .....

٢	3 مكعبات
٣	4 مكعبات
٤	6 مكعبات
٥	7 مكعبات

(7) في القطاعات الدائرية المقابلة : الكسر الإعتيادي الذي يُمثل قطاع الأفراد الذين شاركوا في الاستبيان ويفضلون الموز هو .....



٢	$\frac{1}{4}$
٣	$\frac{1}{8}$
٤	$\frac{1}{2}$
٥	$\frac{1}{6}$

((( انتهت الأسئلة )))★